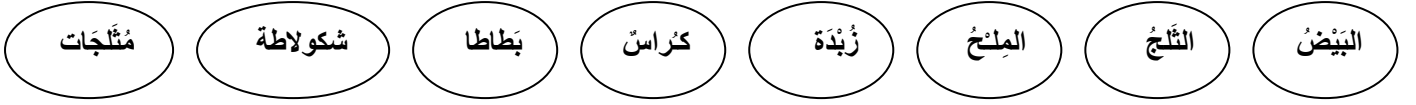


اختبار الفصل الأول في مادة تكنولوجيا

التمرين الأول: لَوْنُ الأجسامِ التي تذوبُ بالحرارة باللون الأصفر و التي لا تذوبُ بالحرارة باللون الأزرق.



التمرين الثاني: أكتب الحاسة المستعملة في كل صورة ؟



حاسة حاسة حاسة حاسة حاسة

التمرين الثالث: إملأ الفراغ بالكلمة المناسبة. (صلب) (سائل) (هواء)



.....

التمرين الرابع: ضع العلامة (x) في الخانة المناسبة.

الأجسام	يأخذ شكل الإناء	لا يأخذ شكل الإناء
الزيتون		
الحليب		
التمر		
الماء		
العسل		
الخشب		

السؤال الأول: (2.5 ن) أضع كل كلمة في مكانها المناسب

- فقاعات - يغوص - البرودة - تطفو - سائل
- يتحول الماء الجامد إلى بفعل الحرارة ، و يتجمد بفعل
- إذا وضعنا الورقة على سطح الماء فإنّها و إذا وضعنا مسمارا فإنّه
- يمكن أن نرى الهواء في الماء على شكل

السؤال الثاني : (2 ن) أكمل الجمل التالية :

- في السنّة شهراً ، و فصول هي : و و
- و في الفصل شهور ، و في الشهر يوماً أو يوماً .

السؤال الثالث: (3 ن)

- ماذا تفعل أمام هذا التصرف ؟

.....

- ما هي النصيحة التي تقدمها له ؟

.....

- أذكر 3 أسباب تلوث الهواء ؟

1-.....

2-.....

3-.....

السؤال الرابع: (2.5 ن) أضع العلامة (x) في الخانة المناسبة

البكاء	الحركة	القراءة	الضحك	اللعب بالدراجة	القدرة
					رضيع
					طفل عمره 7 سنوات

اِخْتِبَارُ الْفَصْلِ الْأَوَّلِ فِي التَّرْيَةِ الْعِلْمِيَّةِ - ت

1. أُحْيِبُ - (ص) أَوْ (خ) :

يَذُوبُ الثَّلْجُ بِفَعْلِ الْبُرُودَةِ .

فِي السَّنَةِ ثَلَاثَةُ فصول .

السُّكَّرُ يَنْحَلُّ فِي الْمَاءِ .

الطِّفْلُ الصَّغِيرُ لَا يَنْمُو .

2. أَرْبِطُ بِمَا يُنَاسِبُ :

اللَّبَنُ صَلْبٌ

السُّكَّرُ لَيْسَ صَلْبًا وَلَيْسَ سَائِلًا

الهَوَاءُ سَائِلٌ

العَصِيرُ

3. اكْمِلْ ب: جَمِيلٍ - قَلِيلًا - مُرْتَفَعَةً - الشِّتَاءِ

فِي فَصْلِ الصَّيْفِ تَكُونُ الْحَرَارَةُ ، وَفِي الْحَرِيفِ تَنْخَفِضُ

وَعِنْدَمَا يَحِلُّ فَصْلُ يَصِيرُ الْجَوُّ بَارِدًا، أَمَّا فَصْلُ الرَّبِيعِ فَيَسْمِيَّزُ بِجَوِّ

4. أَرْبِطُ بِالْجَوَابِ الصَّحِيحِ :

خُمْسَةُ أَيَّامٍ

فِي الْأُسْبُوعِ ثَلَاثُونَ يَوْمًا

سَبْعَةُ أَيَّامٍ

الصف : الثانية ابتدائي

الاسم واللقب:

ابتدائية مصطفى بن بولعيد (دبيديبي - الحجيرة - ورقلة)

الموسم الدراسي (2015/2016) المدة 90 د



10

اختبار الفصل الاول في التربية العلمية

السؤال الأول : صنف الاجسام التالية الى مجموعتين (تطفو ، تغوص) في الماء

قطعة حجر	ورقة شجر	قطعة خشب	قطعة نقود	قارورة فارغة	قطعة حديد
.....

السؤال الثاني : حدد الجسم الصلب (صلب) والجسم السائل (سائل) بالربط



* شكولاتة مسخنة

* حلوى مصاصة

* تمر

* عصير الليمون

* برتقال

* زبدة مذابة

السؤال الثالث : أكمل بالرقام التالية (3 ، 4 ، 31 ، 7 ، 30 ، 12)

في الاسبوع ... أيام ، وفي السنة ... شهرا ، وفي الشهر ... يوما أو يوما

... أشهر تسمى فصلا ، وفي السنة فصول

السؤال الرابع : ضع (نعم) أمام العبارة الصحيحة و (لا) أمام العبارة الخاطئة

- الهواء سائل
- يمكن ان نرى الهواء في فقاعات الماء
- عند التنفس يرتفع صدري
- عندما أنمو يقل وزني
- الهواء الملوث يساعد على التنفس

اختبار الفصل الأول في نشاط
التربية العلمية

20162015الأسئلة1) أضع تحت كل بطاقة صليب أو سائل :

ملعقة

زيت

برتقالة

خبز

2) أربط بسهم :

* تتحل في الماء

ورقة شجرة *

* تغوص في الماء

* ملح

* تطفو على سطح الماء

* قطعة سكر

* كأس زجاج

3) أكمل الفقرة بالكلمات الآتية (الحرارة - حلوا - البرودة - شكلها) :

تتجمد البوظة بـ وتذوب بفعل فتفقد

لكن طعمها يبقى

4) أجيب بـ نعم أو لا
☐ أتجنب الهواء الملوث حتى أحافظ على صحتي .

☐ عندما أنمو يتغير جسمي .

☐ الهواء صلب وأراه .

☐ في السنة 5 فصول .

☐ عدد كل أيام الشهور 30 يوما .

بالتوفيق