

التمرين الأول: أكمل:عرّف:

- الخريطة هي:

.....

.....

- الرقم الإداري لولاية الجزائر هو:

- البلدية التي تنتمي إليها هي:

- بلديتك تابعة إلى ولاية:

- الرقم الإداري لولايتك هو:

التمرين الثاني: أربط كل جملة بما يناسبها :

- تحديد موقع أي مكان على الكرة الأرضية

- خط الإستواء

- يعرف محتوى الخريطة

- خط غرينتش

- يفصل بين شرق الكرة وغربها

- شبكة الإحداثيات الجغرافية

- يقسم الكرة إلى جزأين شمالي وجنوبي

- مفتاح الخريطة

التمرين الثالث: ضع الكلمة المناسبة في مكانها المناسب:

المصنع - الزراعة - المواد الطبيعية - التحويلية - الغذائية - الخشب

يتم تحويل إلى منتجات صناعية في

تضم الصناعة في الجزائر كل أنواع الصناعات الميكانيكية والكهربائية والإلكترونية

و..... و..... والمنتجات والجلود وماد البناء وتحويل

.....

اختبار الفصل الثالث
في مادة التاريخ

التمرين الأول:

أربط بسهم:

1 نوفمبر 1954

- احتلال فرنسا للجزائر.

5 جويلية 1962

- اندلاع الثورة التحريرية.

عام 1830 م

- انتصار الثورة الجزائرية (الإستقلال).

التمرين الثاني:

ضع (صحيح) أو (خاطئ) أمام كل عبارة:

.....

- وُجِّهَ بيان 01 نوفمبر 1954 إلى كل الشعب الجزائري

.....

- مؤلف النشيد الوطني هو محمد فوزي.

.....

- البطل هو الذي يضحي من أجل وطنه.

.....

- الاستعمار هو العدو

.....

- قام جيش التحرير الوطني بالثورة في القرى فقط.

التمرين الثالث:

أذكر ثلاثة أسماء للشهداء:

.....

.....

.....

التمرين الرابع:

أكمل الجواب:

- الذي يقوم بالثورة في الجبال والقرى ويرتدي اللباس العسكري هو:

- الذي يقوم بالثورة في المدن ولا يرتدي اللباس العسكري هو:

- الذي يقوم بأعمال مهمة بالنسبة للثورة مثل التموين ونقل الأخبار والحراسة والعناية بالجرحى هو:


اختبار في مادة التربية التاريخ والجغرافيا

القسم: الثالثة ابتدائي

التاريخ

السؤال الأول: هذه تواريخ أحداث مهمة في حياة أحمد، أرتبها في السلم الزمني المرافق:

2006 : السنة الأولى . 2000 : الميلاد . 2008 : السنة الثالثة . 2010 : السنة الخامسة .



السؤال الثاني: أربط كل عصر بما يميزه

عصر ما قبل التاريخ
العصر القديم
العصر الوسيط
العصر الحديث والمعاصر

• اكتشاف الكتابة وممارسة التجارة والزراعة

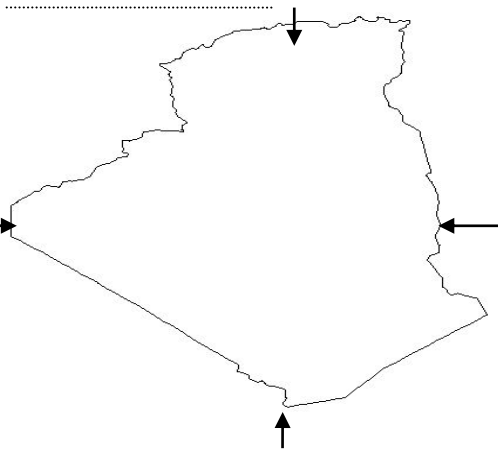
• اختراع الطائرة و جهاز الحاسوب

• الاعتماد في الطعام على الصيد و ثمار الأشجار

• ميلاد الرسول . صلى الله عليه و سلم .

الجغرافيا

السؤال الأول: أنجز على الخريطة متبعا الخطوات التالية:



1. ألون الشريط الساحلي بالأخضر

2. ألون المناطق الداخلية بالبنّي

3. ألون الصحراء بالأصفر

4. أسمى الجهات الأساسية

السؤال الثاني: أكمل بـ: (خطوط الطول) ، (خط غرينتش) ، (خط الاستواء) ، (دوائر العرض)

لتحديد موقع على سطح الكرة الأرضية قسّم العلماء الكرة الأرضية إلى و خط
الطول الأساسي الذي يفصل بين شرق الكرة الأرضية و غربها يُسمى:
العرض الأساسي الذي يُقسّم الكرة الأرضية إلى نصفين (شمالي و جنوبي) يُسمى

الجغرافيا

السؤال الأول (4ن)

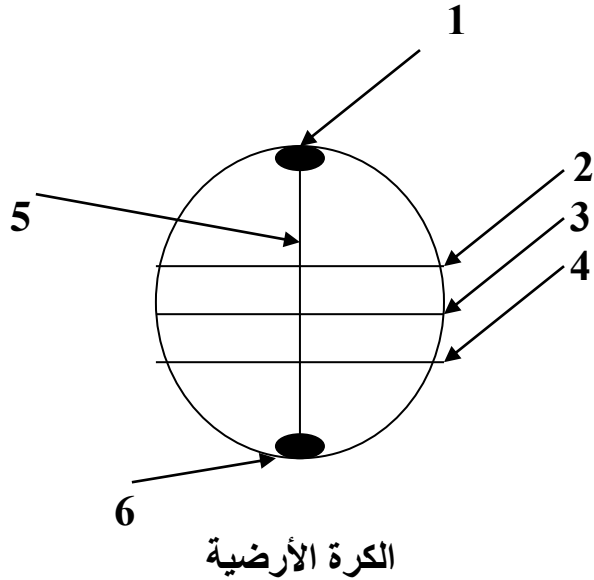
أجب بـ (ص) أو (خ):

- يوجد الريف خارج المدينة (.)
- المدينة هي تجمع سكاني كبير (.)
- القمة هي أسفل الجبل (.)
- خطوط الطول و العرض وهمية (.)

السؤال الثاني: (6ن)

أكمل:

-:1
.....:2
.....:3
.....:4
.....:5
.....:6

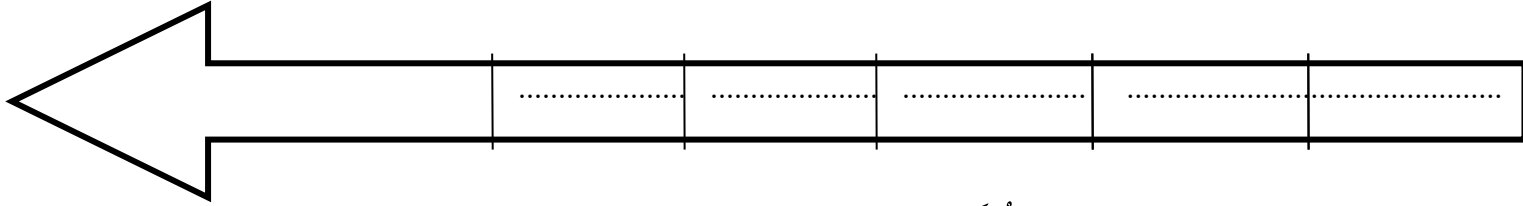


التمرين الأول (2.5): أجب بـ (نعم) أو (لا)

- 1- عَدَدُ أَعْضَاءِ اللَّجْنَةِ الَّتِي أَصْدَرَتْ بَيَانَ أَوَّلَ نُوفَمْبَرِ 18 عُضْوًا (.....)
- 2- الْمُسَبِّلُ هُوَ الَّذِي يَقُومُ بِالثَّوْرَةِ فِي الْمُدُنِ (.....)
- 3- شَارَكَ فِي الثَّوْرَةِ الرِّجَالُ فَقَطْ (.....)
- 4- وُلِدَ مُفْدي زَكْرِيَا فِي غرْدَايَةِ (.....)
- 5- دَامَ الإِسْتِعْمَارُ الْفَرَنْسِي لِلْجَزَائِرِ 132 سَنَةً (.....)

التمرين الثاني (2.5): اُكْتُبْ عَلَى السُّلَمِ الزَّمَنِيِّ بِالتَّرْتِيبِ تَوَارِيخَ مِيلَادِ عَائِلَةِ رِضَا:

الأُمُّ عَامَ 1976 – الْجَدُّ عَامَ 1948 – رِضَا عَامَ 1990 – الْجَدَّةُ عَامَ 1953 – الأبُّ 1970



التمرين الثالث (4ن): إرْبِطْ كُلَّ حَدَثٍ بِتَارِيخِهِ :

- | | |
|------------------------|--|
| * 01 نُوفَمْبَرِ 1954 | * إِحْتِلَالُ فَرَنْسَا لِلْجَزَائِرِ |
| * 05 جَوِيلِيَّةِ 1962 | * إِنْدِلَاعُ الثَّوْرَةِ التَّحْرِيرِيَّةِ الْكُبْرَى |
| * 20 أَوْتِ 1956 | * إِسْتِقْلَالُ الْجَزَائِرِ |
| * 05 جَوِيلِيَّةِ 1830 | * إِنْعِقَادُ مُؤْتَمَرِ الصُّومَامِ |

التمرين الثالث (1ن): أَجِبْ عَلَى الْأَسْئَلَةِ الْآتِيَةِ:

- *- مَا عُنْوَانُ النِّشِيدِ الْوَطْنِيِّ الرَّسْمِيِّ؟
- *- مَنِ الْفَقْه؟
- *- مَنْ قَادَ الثَّوْرَةَ التَّحْرِيرِيَّةَ؟
- *- وَمَنْ قَامَ بِهَآ؟

إختبار الفصل الثالث
في الجغرافيا

التمرين الأول (3ن):

إليك خريطة صماء، عَيِّنْ عَلَيْهَا الْقَارَاتِ الْخَمْسَ، ثُمَّ لَوِّنِ الْقَارَةَ الَّتِي تَنْتَمِي إِلَيْهَا
بِلَادُنَا الْحَبِيبَةَ: أوروپَا - أَمْرِيكَا - إَفْرِيقْيَا - أَسْتْرَالْيَا - آسْيَا



التمرين الثاني (3ن): إرْبِطْ بِسَهْمٍ :

- | | |
|---|---|
| * الإِخْدَانِيَّاتُ الْجُغْرَافِيَّةُ * | * خَطُّ الإِسْتِوَاءِ * |
| * خَطُّ الطُّولِ الْأَسَاسِي * | * خَطُّ غَرِينِيَتِش * |
| * دَائِرَةُ الْعَرْضِ الْأَسَاسِيَّة * | * خُطُوطُ الطُّولِ وَ دَوَائِرُ الْعَرْضِ * |

التمرين الثالث (4ن): إِمْلَأِ الْفَرَائِغَاتِ بِالْكَلِمَاتِ الْمُنَاسِبَةِ

- اسْمُ وَلَايَتِي.....وَرَقْمُهَا.....
- تُسْتَعْمَلُ فِي الْجُغْرَافِيَا إِلَى جَانِبِ الْخَرِيْطَةِ أَدَوَاتُ أُخْرَى مِثْلُ.....
- و.....

اختبار الفصل الثالث في التاريخ والجغرافيا

10

التاريخ

السؤال الأول: أربط الحدث بتاريخه

- الثورة التحريرية 5جويلية 1830
- الاستقلال 5جويلية 1962
- احتلال الجزائر 1نوفمبر 1954

السؤال الثاني: أربط بين الاسم وما يقوم به من أعمال

- المجاهد يقوم بأعمال مهمة كتموين الثورة ونقل الاخبار والحراسة والعناية بالجرحى
- الفدائي يقوم بالثورة في الجبال والقرى مرتديا اللباس العسكري
- المسبل يقوم بالثورة في المدن ولا يرتدي اللباس العسكري

السؤال الثالث: اكمل العبارات التالية

- التنظيم الذي قاد الثورة التحريرية الكبرى يسمى.....
- الجيش الذي حارب المستعمر الفرنسي يسمى.....
- صدر نداء أول نوفمبر سنة
- كان هدف الثورة التحريرية الكبرى هو.....

الجغرافيا

السؤال الأول: أكمل بـ (المعاهد ، عمارات ، الواسعة ، قريبا ، تجمع ، خارج، المحلات، الحركة ، المساحات ، مسكنه)

- يوجد الريف..... المدينة، حيث يكون الانسان فيه..... من الطبيعة في عمله و.....
- أما المدينة فهي سكاني كبير يسكن أغلبهم في..... عالية، تتميز المدينة بالشوارع..... و.....
- المستمرة ليلا ونهارا، كما تكثر في المدينة..... التجارية و..... العلمية و..... الخضراء

السؤال الثاني: تضم الصناعة التحويلية في الجزائر عدة أنواع منها

- (1).....(2).....(3).....

السؤال الثالث: أكمل العبارات التالية

- يتم تحويل المواد الطبيعية الى سلع في.....
- تنقل السلع من مناطق الانتاج الى
- يعتمد العمال في المصنع على استعمال..... الحديثة
- لنقل السلع إلى الأسواق نستعمل وسائل.....

اختبار الفصل الثالث في التاريخ والجغرافيا

التاريخ

1- املأ الفراغ بالكلمة المناسبة:

يتم ترتيب أفراد العائلة على لأن تاريخ ميلاد كل واحد منهم عن الآخر وهذا الترتيب يكون من إلى سنا.

2- اتم الفراغ بما يناسب:

- في قام الشعب الجزائري بالثورة التحريرية الكبرى ضدّ

- قادت الثورة التحريرية الكبرى من 01 نوفمبر 1954 إلى

- النشيد هو النشيد الوطني الرسمي للجزائر ألفه شاعر الثورة

الجغرافيا

1- بم يتميز التل عن الصحراء؟

.....

.....

2- أكمل الفراغ:

- يوجد الريف المدينة ويكون الإنسان من الطبيعة في عمله ومسكنه.

- المدينة هي كبير يسكن أغلبهم في

- تتميز المدينة واستمرار الحركة في و

- تكثر في المدينة و و

التاريخ : (5 نقاط)

1- اربط بسهم بين الحدث و تاريخه .

- رأس السنة الهجرية
- عيد الفطر
- عاشوراء
- عيد الأضحى
- 10 من محرم
- 10 من ذي الحجة
- أول من محرم
- 1 من شوال

2- رتب هذه الأشهر القمرية على حسب تسلسلها .

- جمادى الأولى - صفر - جمادى الثانية - ربيع الأول - محرم - ربيع الثاني .

الجغرافيا : (5 نقاط)

1 - ضع العلامة (✓) أمام الجملة الصحيحة و العلامة (x) أمام الجملة الخاطئة :

- يمارس سكان المدن نشاطا فلاحيا . (.....)
- تختلف المناظر الطبيعية من مكان إلى آخر . (.....)
- يتشابه التل و الصحراء في المناظر الطبيعية . (.....)
- نشاهد في الطريق أعمالا كثيرة أنجزها الإنسان . (.....)

2 - صنف هذه العبارات في الجدول :

- تلوث الجو - قلة المدارس - محلات تجارية كثيرة - كثرة المراعي - كثرة السكان
- هواء نقي .

مظاهر الريف	مظاهر المدينة
.....
.....
.....

اللقب: الاسم:

إمتحان الفصل الثالث لمادة التاريخ

يوم:

التمرين الأول : أرتب الكلمات حسب الجدول : 3ن

الطمأنينة – الأمن – الجهل – الحرية – الجوع – الفقر – الظلم – السعادة – المعاناة – التشييد – الدمار – التعليم .

الإستعمار	الإستقلال
.....
.....
.....
.....

التمرين الثاني: أكمل الفراغ بمايناسب : 3ن

- يقوم بالثورة في الجبال والقرى ، ويرتدي اللباس العسكري هو
- يقوم بأعمال مهمة بالنسبة إلى الثورة مثل التموين ونقل الأخبار والعناية بالجرحى هو
- يقوم بالثورة في المدن ولا يرتدي اللباس العسكري هو

التمرين الثالث : أذكر لكل حدث تاريخه المناسب : 2ن

- احتلال فرنسا للجزائر في 5جويلية
- اندلاع الثورة التحريرية في 1 نوفمبر
- استقلال الجزائر في 5 جويلية
- توفي مفدي زكرياء في 17 أوت

التمرين الرابع: أذكر بطلين من أبطال الثورة التحريرية : 2ن

- الشهيد :
- الشهيد:

السنة الدراسية: 2016/2017

السنة الثالثة ابتدائي

الإسم: اللقب:

يوم:

إمتحان الفصل الثالث في مادة الجغرافيا

التمرين الأول : أكمل الفراغ بالكلمات التالية : 2ن

تجمع سكاني - الريف - عمارات - الطبيعة .

يوجد خارج المدينة ، ويكون فيه الإنسان قريبا من

المدينة هي كبير يسكن أغلبهم في، وتتميز بشوارع واسعة.

التمرين الثاني : أربط كل كلمة بالتعريف المناسب لها : 2ن

- الجبل - أرض منبسطة خضراء

- القمة - التقاء البحر مع اليابس

- السهل - مرتفع كبير

- الشاطئ - أعلى الجبل

التمرين الثالث : أكمل الفراغ بما يناسب : 3ن

الصناعة الإلكترونية : مثل

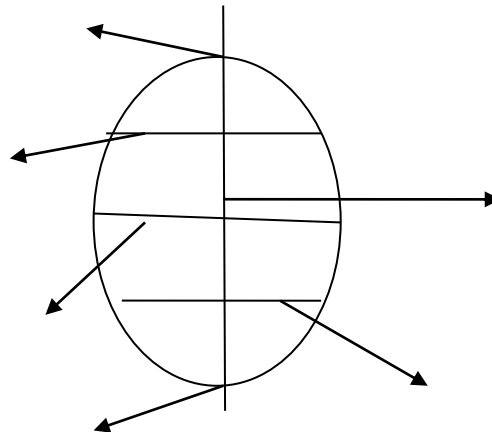
الصناعة الغذائية : مثل

الصناعة الزراعية : مثل

التمرين الرابع : أعلم البيانات على الرسم التالي : 3ن

مدار السرطان - خط غرينتش - القطب الشمالي - القطب الجنوبي - خط الإستواء -

مدار الجدي.

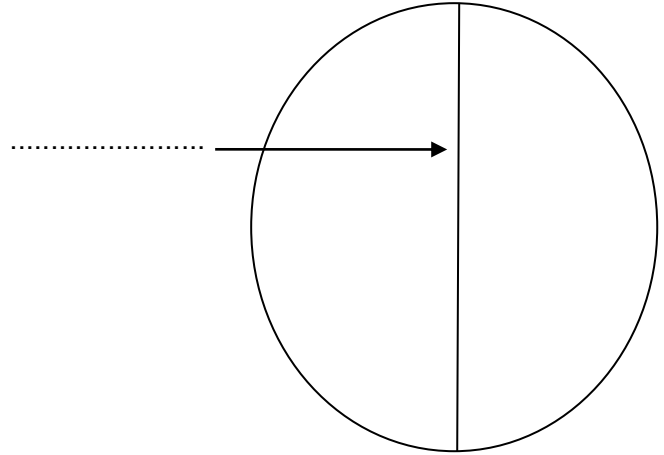
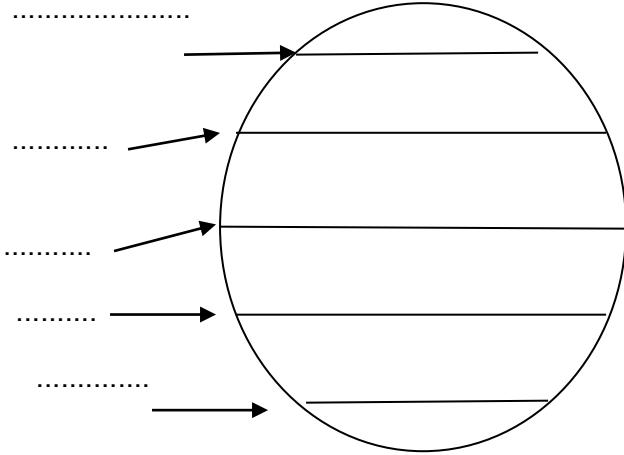


تمنيات لكم بالتوفيق

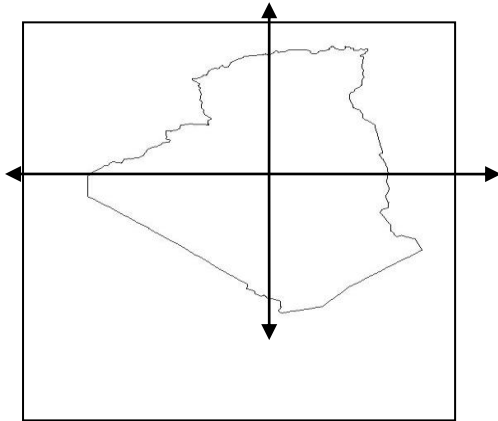
اختبار الفصل الثالث في نشاط الجغرافيا (س 3)

س1 : ضع البيانات الآتية في مكانها المناسب .

خط الاستواء - مدار الجدي - مدار السرطان - الدائرة القطبية الشمالية - الدائرة القطبية الجنوبية - خط غرينتش



س2 : أنجز على الخريطة متبعا الخطوات التالية:



1* ألون الشريط الساحلي بالأخضر

2* ألون المناطق الداخلية بالبني

3* ألون المناطق الصحراوية بالأصفر

4* أسمى الجهات الأساسية

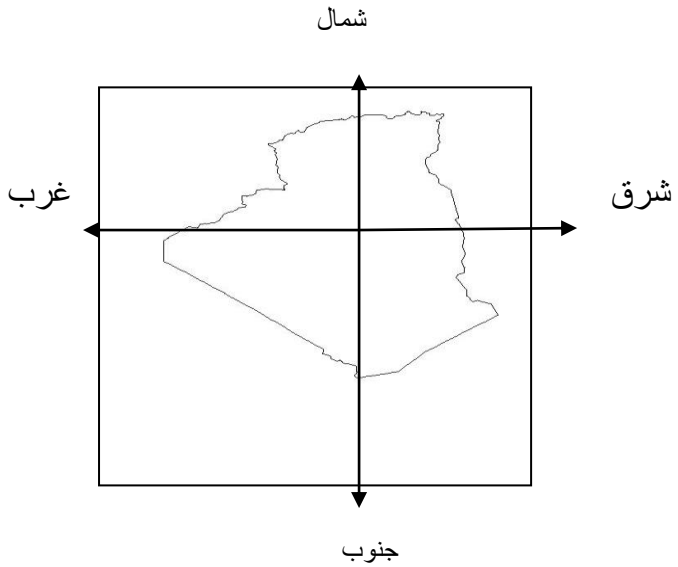
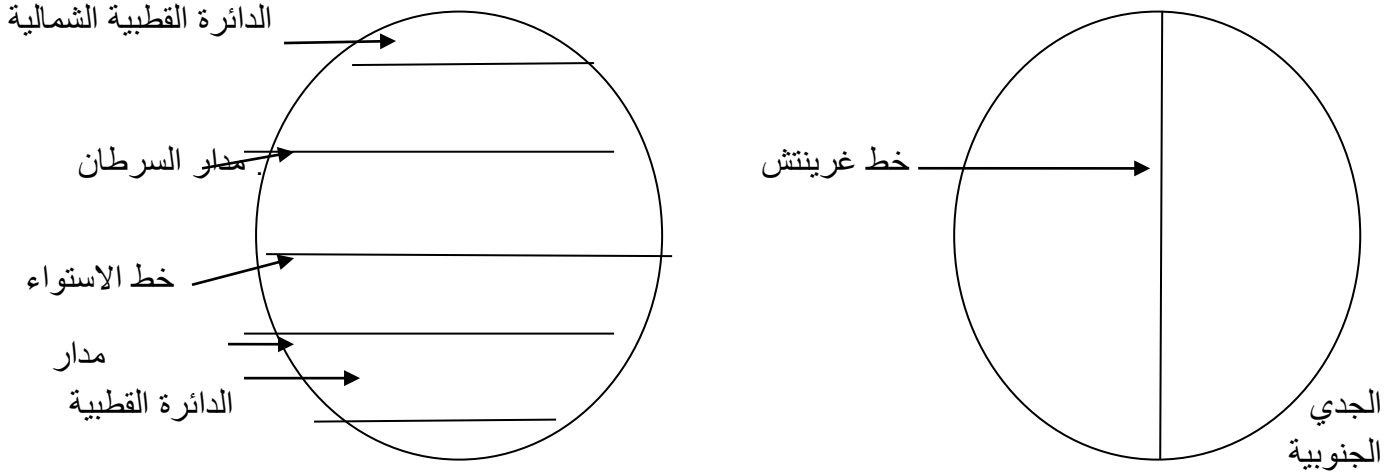
س3 : أربط بسهم مايناسب كل مجموعة .

- | | |
|--------------------|---------------------|
| من مظاهر الريف * | * قلة المدارس |
| من مظاهر المدينة * | * كثرة المراعي |
| | * محلات تجارية كبرى |
| | * نقاء الجو |

الأجوبة

ج 1 : : ضع البيانات الآتية في مكانها المناسب.

خط الاستواء - مدار الجدي - مدار السرطان - الدائرة القطبية الشمالية - الدائرة القطبية الجنوبية - خط غرينتش



ج 2 : أنجز على الخريطة متبعا الخطوات التالية:

- 1* ألون الشريط الساحلي بالأخضر
- 2* ألون المناطق الداخلية بالبنّي
- 3* ألون المناطق الصحراوية بالأصفر
- 4* أسمى الجهات الأساسية

ج 3 : أربط بسهم مايناسب كل مجموعة .

- | | | |
|-------------------|---|------------------|
| قلة المدارس | ← | من مظاهر الريف |
| كثرة المراعي | ← | |
| محلات تجارية كبرى | ← | من مظاهر المدينة |
| نقاء الجو | ← | |

اختبار الفصل الثالث في نشاط التاريخ (س 3)

س1: شطب على العبارة الخاطئة .

في 1 نوفمبر 1954 وجهت جماعة من المجاهدين نداء إلى الشعب (الجزائري - الفرنسي) .

سمي بيان أول نوفمبر (1954 - 1945) .

السلم الزمني نسجل عليه (الأبحاث - الأحداث) .

أخذت الجزائر استقلالها يوم 5 جويلية (1962 - 1862)

(الشهيد - المجاهد) هو الذي استشهد من أجل دينه ووطنه

دام الاستعمار الفرنسي للجزائر (132 - 7 سنوات ونصف) سنة .

س2 : أكمل الفراغ بما يناسبه .

عنوان النشيد الوطني الرسمي لبلادي

ألفه شاعر الثورة في شهر أفريل سنة

حيث انضم إلى الثورة سنة

س3 : اذكر أربعة شهداء الوطن أثناء الاستعمار الفرنسي الغاشم .

.....
.....
.....

س4 : استخراج من الفقرة الموالية العبارات المطابقة للأفعال الآتية .

احتلال — مقاتلة — دعوة — التحرر — المناضلين

في 01 نوفمبر 1954 وجهت جماعة من المجاهدين نداء إلى الشعب الجزائري تدعوه إلى محاربة الاستعمار الفرنسي،

وإخراجه من الجزائر من أجل الحصول على الاستقلال . وسمي هذا النداء بـ : بيان أول نوفمبر 1954 .

احتلال = مقاتلة =

دعوة = التحرر =

المناضلين =

الأجوبة

ج 1: شطب على العبارة الخاطئة .

في 1 نوفمبر 1954 وجهت جماعة من المجاهدين نداء إلى الشعب (الجزائري - الفرنسي) .

سمي بيان أول نوفمبر (1954 - 1945) .

السلم الزمني نسجل عليه (الأبحاث — الأحداث) .

أخذت الجزائر استقلالها يوم 5 جويلية (1962 - 1862)

(الشهيد - المجاهد) هو الذي استشهد من أجل دينه ووطنه

دام الاستعمار الفرنسي للجزائر (132 - 7 سنوات ونصف) سنة .

ج 2 : أكمل الفراغ بما يناسبه .

عنوان النشيد الوطني الرسمي لبلادي **قسما**

ألفه شاعر الثورة **مفدي زكرياء** في شهر أفريل سنة **1955**

حيث انضم إلى الثورة سنة **1955**

ج 3 : اذكر أربعة شهداء الوطن أثناء الاستعمار الفرنسي الغاشم.

سي الحواس - ديدوش مراد - العربي بن مهيدي - زيغود يوسف - باجي مختار - الجيلالي بونعامة - حسبية

بن بو علي - مصطفى بن بولعيد - العقيد لطفي - ادريس عمر ...

ج 4 : استخرج من الفقرة الموالية العبارات المطابقة للأفعال الآتية .

احتلال — مقاتلة — دعوة — التحرر — المناضلين

في 01 نوفمبر 1954 وجهت جماعة من المجاهدين نداء إلى الشعب الجزائري تدعوه إلى محاربة الاستعمار الفرنسي،

وإخراجه من الجزائر من أجل الحصول على الاستقلال . وسمي هذا النداء بـ : بيان أول نوفمبر 1954 .

احتلال = الاستعمار

مقاتلة = محاربة

دعوة = نداء

التحرر = الاستقلال

المناضلين = المجاهدين