

اختبار الفصل الأول
في التاريخ و الجغرافيا

I/ التاريخ: (05ن)

السؤال الأول: (2ن)

أكمل ما يلي:

- تاريخ ميلادي وتاريخ دخولي إلى المدرسة هو حدث.....
- هي جزء من العائلة وتضم الأب والأم والأولاد.

السؤال الثاني: (3ن)

أكمل ملء البطاقات:

اليوم	←	ساعة.....
الأسبوع	←	أيام.....
الشهر	←	أو..... يوم
السنة	←	شهر.....

II/ الجغرافيا: (05ن)

السؤال الأول: (3ن)

- أجيب بـ (صحيح) أو (خطأ):
- نتعرف على جهة الشمال باستعمال البوصلة (.....).
 - تسمى الجهات الأربعة الجهات الأساسية (.....).
 - المعلم هو كل شيء لا يسمح بالتعرف مكان معين (.....).

السؤال الثاني: (2ن)

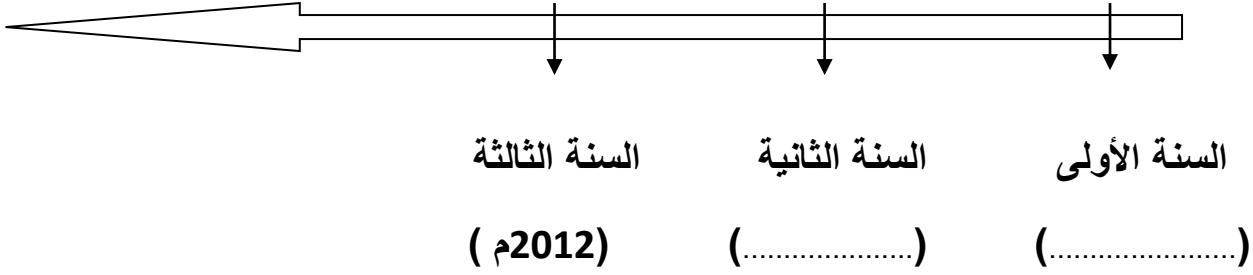
أكمل الناقص :

- الأبعاد الثلاثة هي : و..... و.....
- ما يذكرني أو يعرفني بمواقع الأشياء هو.....

اختبار الفصل الأول في التاريخ

السنة: الثالثة ابتدائي

التمرين الأول: (1ن) يُمَثِّلُ السَّهْمُ سَنَوَاتِكَ الدِّرَاسِيَّةَ بِأَهَمِّ أَحْدَاثِهَا . أَتِمِّمْ تَارِيخَ كُلِّ حَدَثٍ :



التمرين الثاني: (2.5ن) إمْلأ الفَرَاغَ بِأَحْدَاثٍ تُنَاسِبُكَ

وُلِدْتُ بِتَارِيخِ مِنْ شَهْرِ سَنَةِ

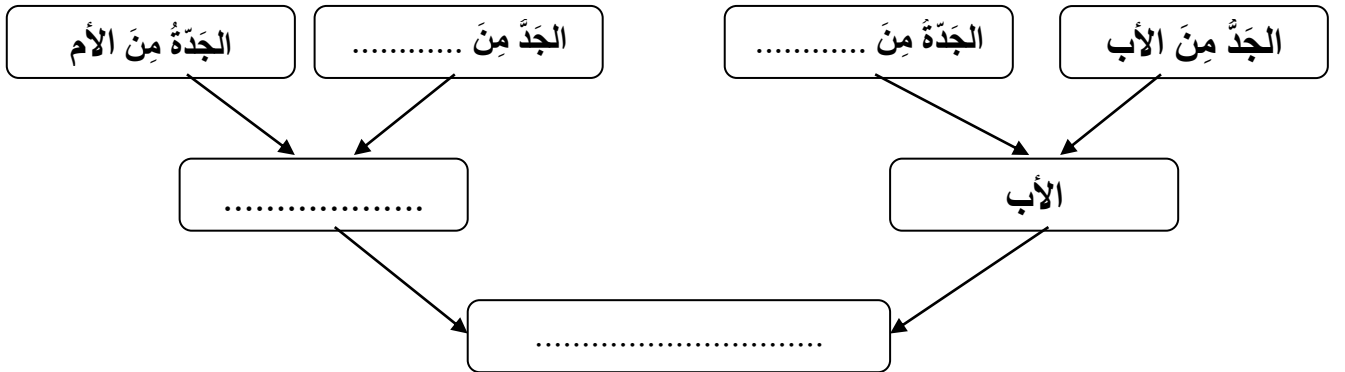
بِبَلَدِيَّةِ وَلَايَةِ

التمرين الثالث: (2.5ن)

يوم واحد = ساعة --- السنة = فصول

الأسبوع = 7 --- = 12

التمرين الرابع: (2ن) أَكْمِلْ عَنَاصِرَ الشَّجَرَةِ الْعَائِلِيَّةِ النَاقِصَةِ .



أَرْبِطُ كُلَّ حَدَثٍ بِنَوْعِهِ:

التمرين الخامس: (2ن)

- * الإِصَابَةُ بِحَادِثٍ *
- * حَفْلُ الْخِتَانِ *
- * زَوَاجُ الْأَخَوَاتِ *
- * الْإِنْتِقَالُ لِلسَّنَةِ الثَّالِثَةِ *
- * حَدَثٌ شَخْصِيٌّ .
- * حَدَثٌ اجْتِمَاعِيٌّ .

اختبار الفصل الأول في مادة تاريخ و الجغرافيا

التاريخ

التمرين الأول: (02 نقطة)

أربط بسهم بين العيد و التاريخ الموافق له

- | | |
|-----------------|-------------------------------|
| • عيد الاستقلال | • 01 ماي من كل سنة ميلادية |
| • عيد الفطر | • 05 جويلية من كل سنة ميلادية |
| • عيد العمال | • 01 من كل سنة هجرية |

التمرين الثاني : (03نقاط)

ألون الخانة التي تدل على شجرة العائلة

الجد	الجار	العم	الخال	الصديق
المعلمة	الابن	الأم	المدير	الأب

الجغرافيا

التمرين الأول: (03نقاط)

أضع الجهات المناسبة في المكان المناسب :

الشرق - الجنوب الشرقي - الشمال - الغرب - الشمال الشرقي - الجنوب الغربي - الجنوب
الشمال الغربي

الجهات الأساسية	الجهات الفرعية
.....
.....
.....
.....

التمرين الثاني : (02نقاط)

أربط بسهم بين الامتداد و تقسيمه :

- | | |
|----------|-------------------------|
| • الكوكب | • بلدان |
| • اليابس | • محيطات و بحار |
| • الماء | • قارات |
| • القارة | • يابس و ماء و غلاف جوي |

اختبار الثلاثي الأول في مادة التاريخ والجغرافيا

التاريخ:التعليمة الأولى: (ن3)

باستعمال الجدول مَيز بين الحدث الشَّخصي والحدث الاجتماعي:

- الانتقال إلى السَّنة الثَّالثة - حفلُ الجَنان - زواجُ الأخت - أصابك حادث - تاريخُ الميلاد -
- اختفالاتُ أولِ نوفمبر.

الأحداث الشخصية	الأحداث الاجتماعية

التعليمة الثانية: (ن2)

أكمل ما يلي:

1 يوم = ساعة.

..... = 60 دقيقة.

السنة = فصول.

..... = 7 أيام.

الجغرافيا:التعليمة الأولى: (ن3)

أكمل بما يناسب:

- نَتعرَّف على جهة الشمال باستعمال
- نُسَمَّى الجهات بالجهات الأساسية.
- هو كل شيء يُسمَح بالتَّعرُّف على مكانٍ مُعيَّن.

التعليمة الثانية: (ن2)

حدِّد الجهات الأساسية فيما يلي:



الجمهورية الجزائرية الديمقراطية الشعبية
وزارة التربية الوطنية

مدرسة ابن سينا بزاوية كنتة بلدية : زاوية كنتة

(اختبار الفصل الأول لمستوى الثالثة ابتدائي)

في مادة التاريخ و الجغرافيا

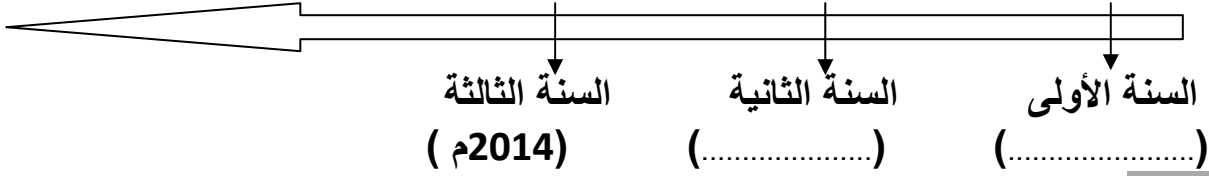
ديسمبر: 2014

المدة: 1 ساعة ونصف

التاريخ

السؤال الأول :

يُمَثِّلُ السَّهْمُ سَنَوَاتِكَ الدِّرَاسِيَّةِ بِأَهَمِّ أَحْدَاثِهَا أَتَمِّمْ تَارِيخَ كُلِّ حَدَثٍ



السؤال الثاني :

حدد في الجدول النشاطات التي تقام في كل مناسبة :
ذَبْحُ كَبْشِ الْعِيدِ - تَكْرِيمُ الْعَمَالِ - تَنْظِيمُ مُسَابَقَاتٍ فِي الْقُرْآنِ الْكَرِيمِ - تَرْيِيبُ الشَّوَارِعِ
بِالْأَعْلَامِ

الحدث	النشاطات
عِيدُ الْعَمَالِ	
المَوْلِدُ النَّبَوِي الشَّرِيف	
عِيدُ الْاِسْتِقْلَالِ	
عِيدُ الْأَضْحَى	

الجغرافيا

السؤال الأول :

للمجسمات ثلاثة أبعاد ما هي ؟

السؤال الثاني :

هناك أربع جهات ما هي ؟

السؤال الثالث :

- ما اسم مدرستك ؟
- ما اسم بلدية مدرستك ؟
- ما اسم ولاية مدرستك ؟

بالتوفيق

1/1

انتهى

اختبار الفصل الأول في التاريخ

2016

س 3 ابتدائي

2015

الأسئلة

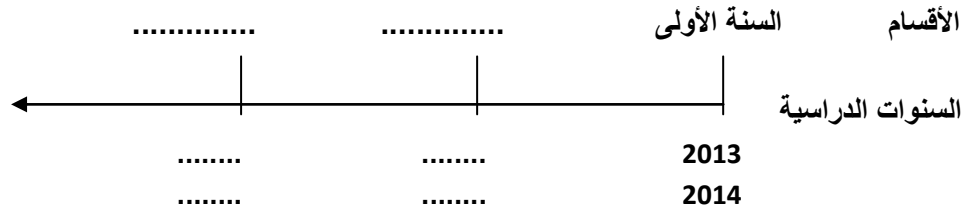
(1) أربط بسهم بين الوحدة الزمنية ومدتها :

الأسبوع	12 شهرا
اليوم	60 دقيقة
الشهر	أربعة أسابيع
السنة	سبعة أيام
الساعة	24 ساعة

(2) أجب بـ صحيح أو خطأ :

- عيد الثورة في الفاتح من شهر نوفمبر .
- عدد الأيام في كل شهر 30 يوما .
- شجرة عائلتي تضم أفراد أسرتي فقط .

(3) إليك السلم الزمني لبعض الأحداث الشخصية الخاصة بك ,
أكمل المخطط .



(4) أكتب تاريخ كل عيد من الأعياد :

- ذكرى المولد النبوي الشريف
- عيد الأضحى المبارك
- عيد الفطر
- عيد الثورة
- عيد الاستقلال

اختبار الفصل الأول في الجغرافيا

2016

س 3 ابتدائي

2015

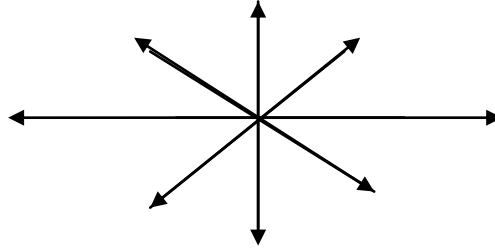
الأسئلة

(1) أجيب بـ نعم أو لا:

- أ- التصميم هو رسم مصغر لمكان أو شيء .
- ب- المعلم هو كل شيء يسمح بالتعرف على مكان معين .
- ت- الجهة التي تشير إليها البوصلة هي الجنوب .

(2) ضع كل اتجاه مكانه على وردة الرياح :

الشمال الغربي	غرب	الجنوب الشرقي	شرق
جنوب	الشمال الشرقي	شمال	الجنوب الغربي



(3) أكمل :

- اسم بلديتي
- اسم بلدية مجاورة لها
- تقع بلديتي في ولاية
- تقع ولاية المسيلة في وطني
- يقع وطني في قارة

(4) لاحظ التصميم :

المطعم

قسم السنة
الثالثة

قسم السنة
الثانية

حدد موقع قسمك بالنسبة لـ :

السارية - المطعم - السنة الثانية

بالتوفيق

ابتدائية :

المستوى : السنة الثالثة ابتدائي

السنة الدراسية : 2017/2016

الاسم واللقب :

يوم : 2016

المدة : 45 دقيقة

اختبار الأول في مادة التاريخ والجغرافيا

السؤال الأول : (01 ن)

إملاً الفراغ بالكلمة المناسبة : المدرسة - السادسة - الدّراسية - حدّث .
الدُّخُول إلى المدرسة هو يَتِمُّ عِنْدَ بُلُوغِ الطِّفْلِ سنَّ من
عُمُرِهِ ، وَيُمَثِّلُ انْطِلَاقَ حَيَاتِهِ

السؤال الثاني : (01 ن)

الأسرة .
تُمَثِّلُ عَائِلَةً وَاحِدَةً تَتَكَوَّنُ مِنَ الأَجْدَادِ وَالْآبَاءِ وَالْأَبْنَاءِ .
العائلة .
هي جُزْءٌ مِنَ الْعَائِلَةِ وَتَضُمُّ الأبَّ ، الأمَّ والأولاد .

السؤال الثالث : (03 ن) أكمل مائلي :

- اليوم = ساعة .
- الشهر = أو
- الأسبوع = أيام .
- السنة = شهر .

➤ نُسَمِّي كل من : الثَّانِيَّةُ والدَّقِيقَةُ والسَّاعَةُ واليَوْمُ والأسْبُوعُ والشَّهْرُ والفَصْلُ والسَّنَةُ بـ :

الجغرافيا

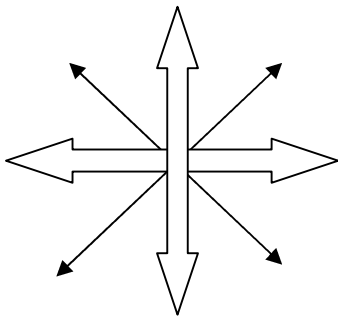
السؤال الأول : (01 ن)

أُجِيبُ بِنَعَمٍ أَوْ لَا :

- ❖ التصميم هو رسم مصغر لمكان أو شيء
- ❖ المعلم هو كل شيء يسمح بالتعرف على مكان معين
- ❖ الجهة التي تشير إليها البوصلة هي الجنوب
- ❖ الجهة التي تغرب منها الشمس في المساء هي الشرق

السؤال الثاني : (04 ن)

ضَعْ كُلَّ اتِّجَاهٍ فِي مَكَانِهِ الْمُنَاسِبِ عَلَى الرَّسْمِ الْمُقَابِلِ :
الشرق - الجنوب - الجنوب الغربي - الشمال الشرقي - الغرب
الشمال - الشمال الغربي - الجنوب الشرقي



ابتدائية مصطفى بن بولعيد (دبيديبي - الحجيرة - ورقلة)
الموسم الدراسي (2017/2016) المدة 90 د

الصف : الثالثة ابتدائي
الاسم واللقب:

اختبار الفصل الاول في التاريخ والجغرافيا

التاريخ

السؤال الأول : أكمل بـ (شخصي ، اجتماعي)

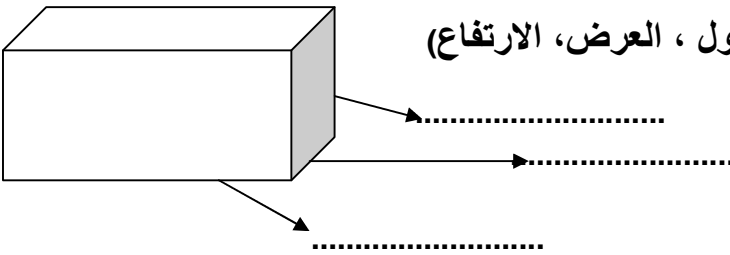
- 1) تاريخ ميلادك هو حدث
- 2) دخولك الى المدرسة هو حدث
- 3) الاحتفال بعيد الاضحى هو حدث
- 4) الانتقال الى السنة الثالثة ابتدائي هو حدث

السؤال الثاني : أكمل باستعمال العبارات التالية (الجد ، الجدة ، الام ، الاب ، الابن)

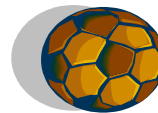
- سنة الميلاد 2006 - سنة الميلاد 1930
- سنة الميلاد 1933 - سنة الميلاد 1971
- سنة الميلاد 1978

الجغرافيا

السؤال الاول: حددا الابعاد التالية على الرسم (الطول ، العرض ، الارتفاع)



السؤال الثاني: أكمل بـ (خلف ، يمين ، يسار ، أمام)



الارنب عن.....السيارة

الكرة.....النمر

الكرة.....السيارة

السيارة عن.....الارنب

الجمهورية الجزائرية الديمقراطية الشعبية

وزارة التربية الوطنية

السنة الدراسية : 2017/2016

اختبار للفصل الأول في مادة التاريخ

المدرسة : حريزية عابد

السنة الثالثة





التمرين الأول : أكتب حدثان شخصيان يخصانك :

-
-

التمرين الثاني : أكمل مايلي :

ولدت يوم من الشهر سنة ببداية دائرة ولاية

التمرين الثالث : أتمم بما يناسب من حيث الزمن :

الدخول المدرسي	عطلة الشتاء	عطلة الربيع	عطلة الصيف
			
.....

التمرين الرابع : أربط كل ما يناسب بطبيعتها :

عيد الأضحى	ديني	عيد الطفل
	عالمي	
عيد الاستقلال	وطني	عيد الفطر

الجمهورية الجزائرية الديمقراطية الشعبية

وزارة التربية الوطنية

السنة الدراسية : 2017/2016

اختبار للفصل الأول في مادة الجغرافيا
السنة الثالثة

المدرسة : حريزية عابد

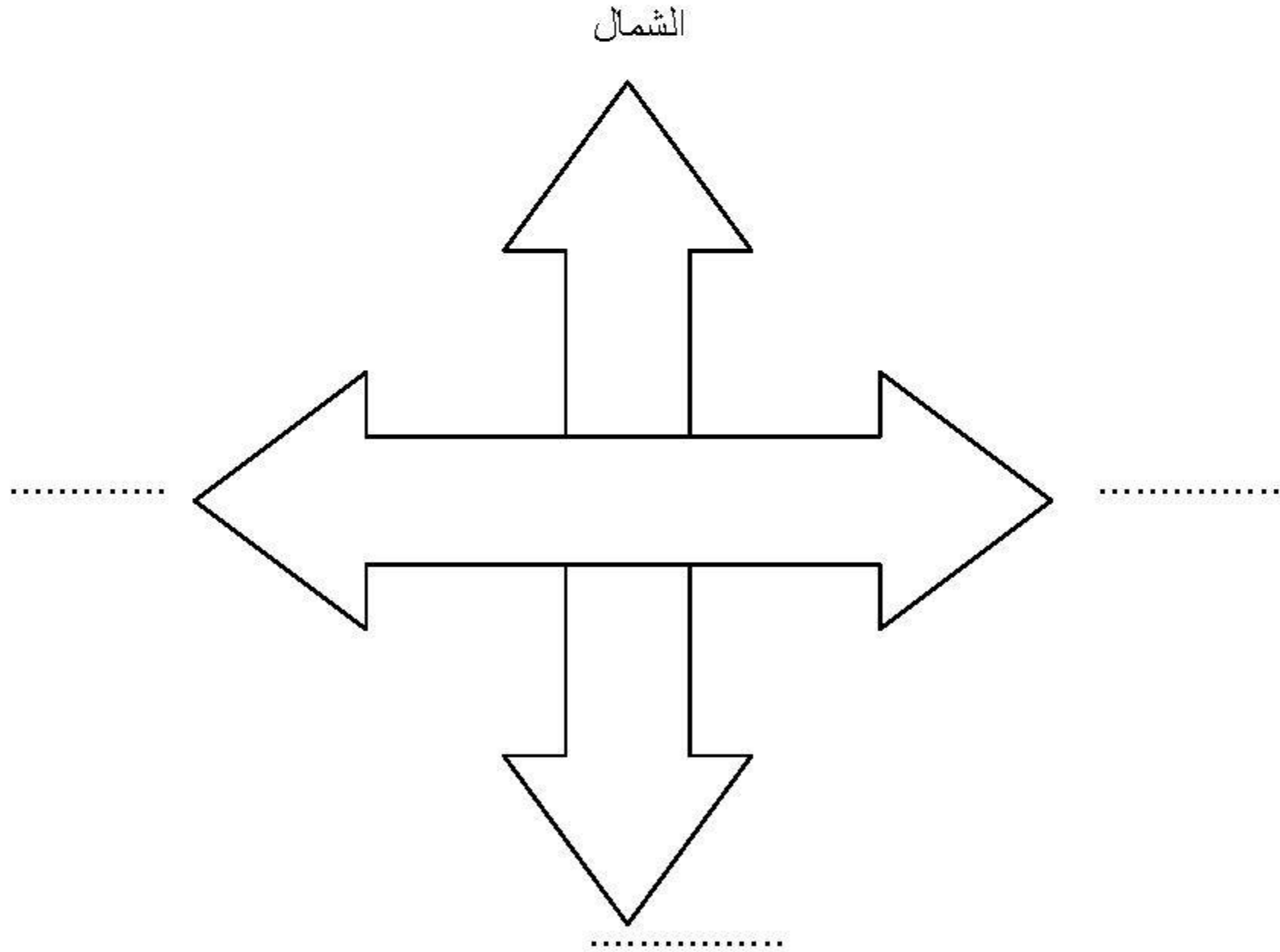
التمرين الأول : عرف المعلم ؟

.....

التمرين الثاني :

- اسم الحي الذي أسكن فيه هو :
- اسم البلدية التي اقيم فيها هي :
- اسم ولايتي هي :
- رقمها الجغرافي هو :

التمرين الثالث : عين الاتجاهات المعلم :



التمرين الرابع : أذكر الجهات الفرعية الأخرى ؟

.....

المدرسة: الفجر 2 المستوى: الثالثة السنة الدراسية: 2017/2016	اختبار الفصل الأول في مادة التاريخ والجغرافيا	اللقب: الاسم: التاريخ:
---	--	--

مادة التاريخ

التمرين الأول: إملأ الفراغات:

- الوحدة الزمنية هي: من
- الانتقال إلى السنة الثالثة هو:
- العمل له فوائد كثيرة.
- عناصر الهوية الشخصية هي: و و و و

التمرين الثاني: اربط بما يناسب:

- | | |
|----------------|----------------------------|
| • حدث إجتماعي. | • بلوغ سن السادسة. |
| • حدث ديني. | • عيد العمال. |
| • حدث عالمي. | • عيد الإستقلال. |
| • حدث شخصي. | • ازدياد مولود في العائلة. |
| • حدث خاص. | • مولد النبوي الشريف. |

التمرين الثالث: أكمل مايلي:

.....	←	السنة الدراسية	←
60 دقيقة	←	←
يوم واحد	←	←
ساعة	←	←

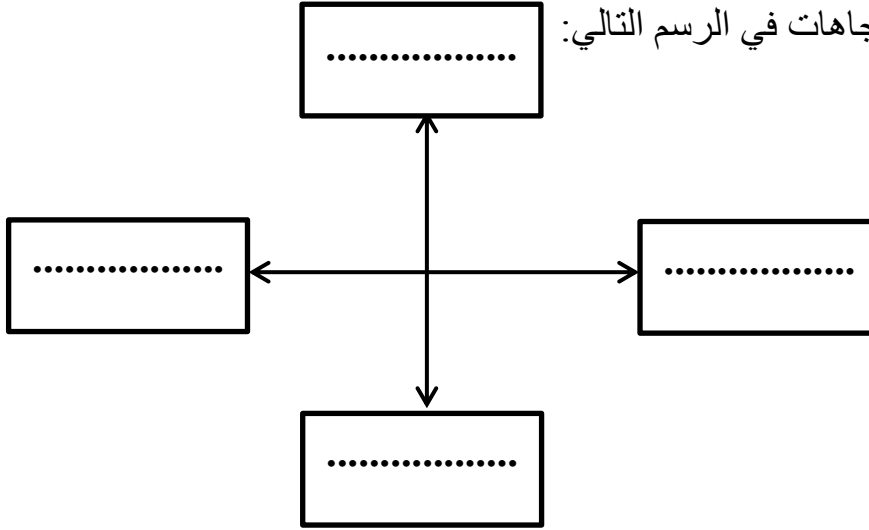
التمرين الرابع: لون البطاقة التي تضم الشجرة العائلية:

الأب	الجار	الجد
الجددة	الإبن	الأم

التمرين الأول: أجب بـ " صحيح" أو "خطأ":

- العرض هو أطول من الطول (.....)
- نستعمل البوصلة لتحديد الإتجاهات (.....)
- المعلم نحدد به أماكن معينة (.....

التمرين الثاني: حدد الإتجاهات في الرسم التالي:



التمرين الثالث: املأ الفراغ:

- تحدد جهة و جهة الغرب بحركة الظاهرية طلوعا و
- يحدد الشمال و بـ