

مادة التاريخ

الوضعية الأولى: (6 نقاط)

في وقتنا الحالي أصبحت الخريطة وسيلة مهمة لا يمكن للمرء الاستغناء عنها خاصة مع التطور التكنولوجي.

1. عرف الخريطة التاريخية ؟
2. فسر كيف يكون لها دور في إبراز الظاهرة التاريخية ؟
3. الخريطة وسيلة تبليغ وتواصل. اشرح ذلك؟

الوضعية الثانية: (6 نقاط)

إن الدولة العثمانية استطاعت بسط نفوذها على ثلاث قارات منا جعلها تشرف على أهم المنافق والممرات البحرية.

1. عين القارات التي استطاع العثمانيون بسط نفوذهم عليها؟ وممر بحريا؟
2. اضبط الأحداث التالية بإطارها الزمني؟
3. فسر سبب توسع العثمانيين في البلاد العربية؟

الوضعية الإدماجية: (8 نقاط)

السياق: شاهدت المسلسل التاريخي حريم السلطان على أحد القنوات فشدد انتباهك قوة الدولة العثمانية سياسيا وعسكريا، وقد عرفت كيف انتقلت من إمارة صغيرة إلى إمبراطورية.

- السند1: وكانت عناية العثمانيين متجهة إلى الجيوش البرية، وقد بلغت البحرية التركية غايتها أواخر القرن السادس عشر حتى لم يكن من الممكن لأي بحرية أن تجول في البحر المتوسط بدون إذن من السلاطين الأتراك (أحمد شيلي / موسوعة التاريخ)
- السند2: وقد تنازل محمد المتوكل على الله عن حقه في الخلافة الإسلامية إلى السلطان سليم الأول (من مجلة الدارة).
- التعليمة: بناء على السندات وما درست من قبل أكتب فقرة لا تتجاوز 10 أسطر حول الموضوع؟

مادة الجغرافيا

الوضعية الأولى: (3 نقاط)

اشرح المصطلحات التالية: أرخبيل - المناخ - تهيئة الإقليم.

الوضعية الثانية: (4 نقاط)

تتألف قارة أوقيانوسيا من أرخبيل من الجزر المتناثرة في المحيط الهادي.

1. حدد أهم جزرها؟
2. اشرح نوع المناخ السائد فيها؟

الوضعية الثالثة: (5 نقاط)

رغم الصعوبات التي تعاني منها أوقيانوسيا إلا أنها استطاعت تنظيم المظاهر الجغرافية والبشرية والاقتصادية على المستوى الإقليمي.

1. اذكر أهم الموارد الزراعية والطاقوية والمعدنية في القارة؟
2. حدد نشاطين اقتصاديين بالقارة مبرزا دورهما في تحقيق التنمية الاقتصادية؟

الوضعية الإدماجية: (8 نقاط)

السياق: نتبعت مع والدك شريطا وثائقيًا عن قارة أوقيانوسيا فاندعشت لتقدمها الاقتصادي رغم الصعوبات التي تواجهها مما جعلك تبحث عن تفسير لذلك

- السند1 : إقليم شرق أستراليا غني بالثروة الزراعية والمعدنية والحيوانية، وقد ساهم كثيرا في تطوير التنمية في أستراليا (الكتاب المدرسي).

السند2: تعاني القارة من صعوبات طبيعية، فهي مجموعة من الجزر المتناثرة في المحيط الهادي (في الكتاب المدرسي).

التعليمة: بناء على السندات وما درست أكتب فقرة لا تتجاوز 12 سطرا تبرز فيها صعوبات التنمية بالقارة وكيف استطاع الأوقيانوسي تجاوزها، وتحقيق التنمية الشاملة.

اختبار التلاشي الأول في مادة
الاجتماعيات

التاريخ (13 نقطة)

الجزء الأول : (9 ن)

س1 : أذكر أحداث التواريخ التالية

1492 - 1792 - 1509

س2 : اشرح المصطلحات التالية

الكراغلة - بايلك - الباي لرباي

س3 : وقع على سلم زمني الصراعات التي مرت بها الحكم العثماني
في الجزائر مبرزاً الإطار الزمني لكل مرحلة .

الجزء الثاني : الوضعية الحياتية (4 نقاط)

السياق : دار نقاش بين زملائك حول الوجود العثماني

بالجزائر ، إذ يرى البعض أنه تم ظمها إلى الإمبراطورية مثلاً

ظمت بلاد المشرق ، فتدخلت لتوقع لهم ظروف تنعية الجزائر

للدولة العثمانية .



خريطة الفوز
الأسباني
للسواحل
المغربية

السند 1

السند 2 : " تمكن البحارة الجزائريون في الفترة الممتدة من 1528 إلى 1584 من شن ثلاثة وثلاثين غارة
بحرية على السواحل الإسبانية ، أنقذوا أثناءها كثيراً من الأندلسيين "

الجزائر في التاريخ المعاصر ص 44

التعليمة : اعتماداً على السند وعلى ما درست أكتب فقرة ص 10
أسطر تشرح فيها تحول الجزائر إلى إالة عثمانية .

الحزب الأول: (4 ن)
س1. أكمّل الجدول التالي

المساحة	السكان	المقارنة
		أوقيانوسيا وأفريقيا

س2. يتوزع سكان أفريقيا توزيعًا غير منتظم
علّل ذلك ؟
(2 ن)

الوضعية الحياتية: (3 ن)

شاهدت مع أبيك شريطًا وثائقيًا عن قارة أوقيانوسيا،
فأدهش أبوك لتقدمها الإقتصادية رغم الصعوبات، مما دعاه
إلى لقلبك لتفسر له ذلك .

السند: - تتعرض أستراليا للعديد من الأعاصير على طول الساحل،
فضلاً عن مواسم الجفاف الشديد وحرائق الغابات

التعليمية: اعتمادًا على السند وعلى ما درست أكتب فقرّة من
12 سطراً تتناول فيها صعوبات التنمية في أوقيانوسيا

المستوى: السنوات الثالثة متوسط
المدة: ساعة واحدة
التاريخ: 2017-11-29

اللقب والاسم:

القسم:

اختبار الفصل الأول في مادة التاريخ

ملاحظة :

* يجب كتابة الأجوبة على الورقة بعد التأكد منها لتجنب التشطيب
* كتابة الوضعية الإدماجية تكون في الجهة الخلفية للورقة

الجزء الأول: (12 نقطة)

التمرين الأول (04 نقاط)

اشرح المصطلحات التالية:

نيشانجي..... الديوان..... السباهين.....

الانكشاري.....


التمرين الثاني: (04 نقاط)

اكمل الجدول التالي:

البلد او المنطقة	الحدث او المعركة	السنة
.....
.....
.....	تنازل المتوكل عن الخلافة للسلطان سليم الاول
.....	1534 م

التمرين الثالث: (03 نقاط)

1- على سلم زمني وقع تواريخ الدولة العثمانية منذ نشأتها وحتى سقوطها



01 ن

2- ما الفرق بين الخريطة التاريخية وغيرها من الخرائط ؟

الجزء الثاني: الوضعية الإدماجية (08 نقاط)

السياق: دار نقاش بين زملائك حول تاريخ القسطنطينية وأهميتها الحضارية والاقتصادية إذ يرى البعض أن البيزنطيين هم أول من أسسوها بينما يرى آخرون غير ذلك

السند: "كانت القسطنطينية بطبيعتها مطمعا للجميع كأن الجغرافيا والتاريخ أعداها لتكون عاصمة لامبراطورية عظيمة.."

السند: "...كانت المدينة حصنا طبيعيا وميناء عميق منقطع النظير...."

التعليمة: من خلال السندات اكتب فقرة لا تتعدى 10 أسطر تتحدث فيها عن تاريخ القسطنطينية، أهميتها وأهم الشواهد الحضارية للمسلمين فيها.

اللقب والاسم:

القسم:

اختبار الفصل الأول في مادة الجغرافيا

ملاحظة

* يجب كتابة الأجوبة على الورقة بعد التأكد منها لتجنب التشطيب
* كتابة الوضعية الإدماجية تكون في الجهة الخلفية للورقة

الجزء الأول: (12 نقطة)

التمرين الأول: 04 نقاط:

تزخر أوقيانوسيا بموارد متعددة إلا أنها تعاني من مشاكل التنمية في معظم دولها
- عدد حلولاً لمشاكل التنمية في القارة (4 حلول فقط)

1-.....

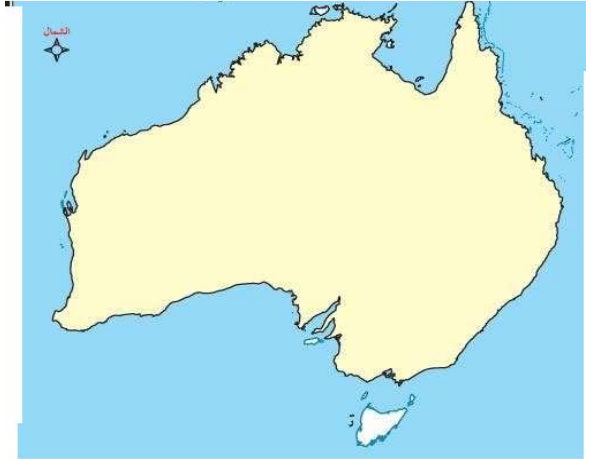
2-.....

3-.....

التمرين الثاني: (04 نقاط)

اليك خريطة صماء لأستراليا

- حدد على الخريطة مناطق زراعة الحبوب (القمح)



التمرين الثالث (04 نقاط)

حدد الموقع الجغرافي والفضائي لقارة إفريقيا

التمرين الرابع: اكمل الجدول:

التجمعات الكبرى للسكان في إفريقيا	تجمعات نادرة للسكان في إفريقيا

الجزء الثاني: الوضعية الإدماجية (08 نقاط)

السياق: و أنت تشاهد رفقة قريبك شريطاً تلفزيونياً حول الافارقة فاستغرب لمزيج الاجناس وسألك عن ذلك
السند: "تبين الدلائل التاريخية ان افريقيا من بين المناطق التي عمرها الانسان منذ القدم، فتنوعت اجناسه...."
السند: "في القرن 19 م شهدت القارة استعماراً أوروبياً استطاعوا نتج عنه إقامة موانئ ومدن ساحلية لاستغلال خيراتها..."
التعليمة: اعتمدا على السندات وعلى ضوء ما درست اجب عن تساؤل قريبك

التاريخ: [12 نقطة] الوضعية الأولى:

"..... لم يتم فتحها الا بعد عدة محاولات عديدة ، حيث اتجهت انظار العثمانيين إليها منذ 1400 م وتوالت محاولات فتحها بحصارها سنة 1410 م و 1422 م".

المطلوب:

- ما اسم المنطقة التي يتحدث عنها النص ؟
- على يد من تم فتحها ، ومتى كان ذلك ؟
- بيني الأهمية التاريخية لفتح تلك المنطقة ؟

[0.5 ن]

[01.5 ن]

[01.5 ن]

[02.5 ن]

الوضعية الثانية:

- تمثل الخريطة التاريخية الاحداث والوقائع التي قام بها الانسان في الماضي في مجال جغرافي محدد : اذكر (03) أدوار للخريطة التاريخية ؟
- . جاء في أهميتها : " وسيلة تبليغ وربط الماضي بالحاضر " أشرحي ذلك ؟

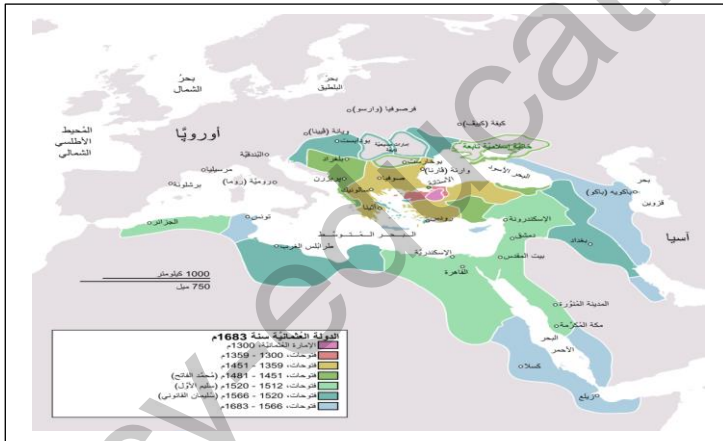
[01.25 ن]

[01.25 ن]

الوضعية الإدماجية : [04 نقاط]

السياق: عرضت قناة الجزيرة الوثائقية شريطا تاريخيا حول الدولة العثمانية وتحدثت عن باعها الكبير في إحياء مجد الخلافة الإسلامية من جديد ، ونشر الإسلام في أصقاع العالم واستمر وجودها أكثر من (6) قرون .

السندات:



السند 02:



السند 01:

سياسيا	اداريا	عسكريا
1/ يلقب الحاكم: السلطان 2/ يساعده الباشوات، وشيخ الاسلام، و القاضي	1/ قسمت الدولة الى ولايات 2/ لكل ايالة حاكم ، يسمى باشا	1/ يتألف من 3 فرق، السباهية، الانكشاري الاسطول البحري

السند 03:

التعليمة:

- اعتمادا على السندات 1 و 2 ومكتسباتك القبلية اكتب فقره من 12 اسطر تبين فيها التطور الحضاري للدولة .
ملاحظة: ارفاق الخطة المتبعة للوضعية ضرورية

- الجغرافيا: [07 نقاط]
- الوضعية الأولى: [03 نقاط]

✓ تعتبر أوقيانوسيا قارة حديثة الاكتشاف

المطلوب:

[01.5 نقطة]

(1) - اربط بين عناصر "أ" و"ب":

"ب"

"أ"

- أرض الجزر الصغيرة

ميلانيزيا

- أرض الجزر السوداء تشبه بالسكان السود للمنطقة

ميكرونيزيا

- أرض الجزر الكثيرة

بولينيزيا

[01.5 نقطة]

(2) - وقي على الخريطة المرفقة ما يلي :

- جزيرة نيوزيلندا / جزيرة غينيا الجديدة / المراعي في استراليا ،

الوضعية الإدماجية: [04 نقاط]

السياق :

- تتوسط قارة إفريقيا قارات العالم الثلاث و تبلغ مساحتها 30 م كم2 إذ يقدر عدد سكانها ب: 1.1 مليار ن و كثافة سكانية تقدر ب36.6 ن/كم2.

السندات :

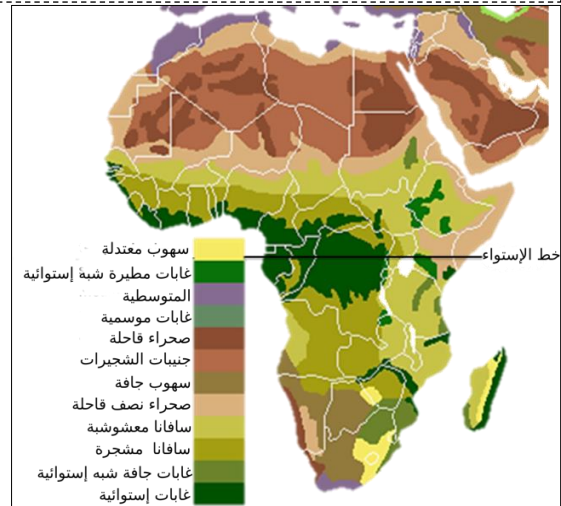


السند 01:

السند 03 :



السند 02:



التعليمة:

- بناءً على السندات "3.2.1" ومكتسباتك القبلية أكتب في فقرة من 12 أسطر تتحدثين فيها عن توزيع السكان في القارة .

ملاحظة: ارفاق الخطة المتبعة للوضعية ضرورية

أدعوا الله لكن بالتوفيق والنجاح



الجمهورية الجزائرية الديمقراطية الشعبية

المستوى : السنة الثالثة متوسط

متوسطة الشهيد قزقوز بن ذهيبة * السور الجديدة *

المدة : ساعة واحدة

الاختبار الأول في مادة الجغرافيا

السنة الدراسية : 1439هـ / 2017م

الجزء الأول: (16ن)

السؤال الأول : هات بإيجاز تعريفا لمايلي :

(04ن)

- الوثيقة التاريخية - آل عثمان - السباهين - بايزيد

السؤال الثاني : عرف تاريخ الدولة العثمانية أحداثا ذات دلالات معلمية ، أذكر أحداثها مما يأتي :

(04ن)

- 1299 - 29 ماي 1453 - 1516 - 1534

السؤال الثالث :

(04ن)

- أذكر أربع (04) سلاطين عثمانيين شاركوا في الفتوحات العثمانية ؟

- اشرح الدور الإيضاحي للخريطة ؟

السؤال الرابع : ضع " صح " أو " خطأ " مع تصحيح الخطأ في العبارات التالية .

(04ن)

- يساعدنا مفتاح الخريطة على التعريف بموضوعها .

- تشخص الخريطة تحركات الإنسان عبر التاريخ .

- أصبحت السلطنة العثمانية إمبراطورية بعد فتحها لليونان و البلقان .

الجزء الثاني : (04ن)

تابعت شريطا وثائقيًا حول نشأة الدولة العثمانية ، فعلمت على إثره أنها أطول دول الترك بقاء ، حيث جمع سلاطينها في أيديهم بين السلطة المدنية و السلطة الدينية كما أبهرتك قوتها العسكرية ، فتساءلت عن حضارتها .

السندات : 1- لقد حقق العثمانيون حضارة عظيمة من انجازاتها :

- توحيد العالم الإسلامي - التصدي المد المسيحي - بناء المساجد و المدارس .

2- " تعاقب على حكم الدولة العثمانية أربعون حاكما " .

التعليمة : بناء على ما درست و السندات المقدمة ، اكتب موضوعا تاريخيا من 07 أسطر تجيب فيه عن السؤال الذي تبادر إلى ذهنك .

بالتوفيق من أستاذ المادة

الجمهورية الجزائرية الديمقراطية الشعبية

المستوى : السنة الثالثة متوسط

متوسطة الشهيد قزقوز بن ذهيبة * السور الجديدة *

المدة : ساعة واحدة

الاختبار الأول في مادة الجغرافيا

السنة الدراسية : 1439هـ / 2017م

الجزء الأول: (16ن)

السؤال الأول : اشرح المصطلحات التالية . (04ن)

- أوقيانوسيا - ميلانيزيا - ويلنغتون - التهيئة الإقليمية

السؤال الثاني : أجب عن الأسئلة التالية : (06ن)

- 1- كم تبلغ مساحة قارة أوقيانوسيا ؟
- 2- حدّد نسبة مساحة كل من أستراليا و نيوزيلندا بالنسبة لمساحة أوقيانوسيا ؟
- 3- حدّد المجموعات الجزرية للجزر التالية : غينيا الجديدة - ساموا - ماريانا - فيجي

السؤال الثالث : ضع " صح " أو " خطأ " مع تصحيح الخطأ في العبارات التالية . (06ن)

- تقع سهول أوقيانوسيا في الجهة الشرقية
- تحتل أستراليا المرتبة الثانية في إنتاج الذهب
- صفة الإستواء لقارة أوقيانوسيا جعلتها تخلو من الأشكال التضاريسية
- تحتل نيوزيلندا المرتبة الرابعة في إنتاج الصوف و تربية المواشي

الجزء الثاني : (04ن)

تابعت شريطا وثائقي حول قارة أوقيانوسيا ، فعرفت أنها تزخر بموارد طبيعية هامة ، إلا أن موقعها ضمن البيئة المحيطية جعلها من أصعب البيئات للعيش .

السندات : 1- " تتعرض أستراليا للعديد من الأعاصير على طول الساحل ، فضلا عن مواسم الجفاف الشديد و حرائق الغابات "

2- " عرقله البيئة المحيطية لأوقيانوسيا تحقيق التنمية الاقتصادية " .

التعليمة : بناء على ما درست و السندات المقدمة ، اكتب فقرة من 07 أسطر توضح فيها أهم الموارد الطبيعية لأوقيانوسيا و مختلق الصعوبات الطبيعية التي تعاني منها .

بالتوفيق من أستاذ المادة