

➤ السؤال الأول: أذكر يوم و شهر ميلادك.

..... ○

➤ السؤال الثاني: اربط كل تجهيز و وظيفته

صرف مياه الأمطار	طريق معبد
للزّاجلين	رصيف
إنارة الشّوارع	مصباح عمومي
للعبور	أشجار
سير السيّارات	ممرّ الزّاجلين
تزيين الشّوارع	إشارة المرور
تنظيم المرور	شبكة صرف المياه

➤ السؤال الثالث: أكتب شهور السنة مع فصولها مرتّبة

الفصل	الأشهر	
.....	1
	2
	3
.....	4
	5
	6
.....	7
	8
	9
.....	10
	11
	12

1 - أكمل الفراغات التالية ب: (سمك - أزهار - ثماراً - بذور - طول) 2.5 ن

كلما ينمو النبات يزداد..... و..... جذعه، تظهر عليه..... تعطي..... تحتوي كل ثمرة على

2 - رتب مراحل نمو النبات بالأرقام 2 ن

- تظهر الأزهار و تعطي ثمار بداخلها بذور
- تنتش البذور عند زرعها
- تعطي نبتة صغيرة
- يزداد طول الجذع و الساق، و تتفرع الأغصان و تكبر

3 - أكمل بما يلي - تنمو - تذبل و تموت - الامتصاص 1.5

- يتحصل النبات على الماء ب.....
- النبتة التي تسقى بانتظام
- النبتة التي تسقى بالزيت

4 أكمل الفراغ ب: فصلا - شهرا - سنة - أسبوعا 4 ن

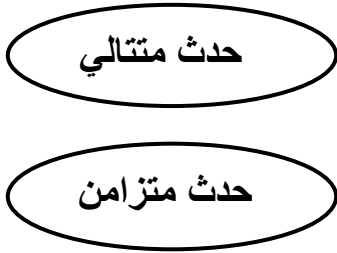
- 7 أيام مجتمعة تسمى
- 30 أو 31 يوما مجتمعة تسمى
- 3 أشهر تسمى
- 4 فصول تسمى

الاختبار الثاني في التربية العلمية والتكنولوجيا

السؤال الأول: أرتب مراحل إنتاش البذرة بوضع الأرقام: 1 - 2 - 3 - 4. (02ن)



السؤال الثاني: أربط الحدث بما يناسبه : (02ن)



- الطفل ينام ويحلم .
- المسلم يصلي صلاة المغرب ثم صلاة العشاء.
- الأب يتفرج على التلفاز ويرتشف القهوة .
- تلد الدجاجة البيض ثم تحضنه.

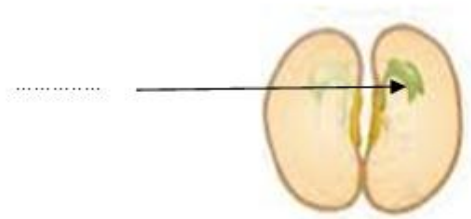

السؤال الثالث: أكمل مكان النقط بما يناسب: (04ن)

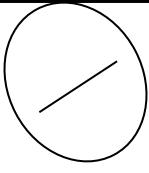
تتكون السنة من فصول، هي:

و و و

الشهر إما يوما أو
..... يوما. والأسبوع :
..... أيام.

السؤال الرابع: أسمى العنصر حسب اتجاه السهم: " نُبَيْتَة " - " ساق " - " جِذْر " - " أَوْراق " (02ن)





التمرين الأول: (1.5ن) - أَكْمِلْ كُلَّ جُمْلَةٍ بِالْكَلِمَةِ الْمُنَاسِبَةِ : العلامة :

*أَوَّلُ شَهْرٍ فِي السَّنَةِ الْمِيلَادِيَّةِ هُوَ

* يَحْتَاجُ النَّبَاتُ فِي تَغْذِيَّتِهِ إِلَى

*أَوَّلُ شَهْرٍ فِي السَّنَةِ الْهَجْرِيَّةِ هُوَ

التمرين الثاني: (2ن) أَرْتِبْ مَرَاهِلَ نُمُوِّ جِسْمِ الطِّفْلِ بِالْأَرْقَامِ (1- 4)



(.....)



(.....)



(.....)



(.....)

التمرين الثالث: (4ن) - أَرِبْطْ بَيْنَ مَجْمُوعَةِ الْأَيَّامِ وَمَا تُمَثِّلُهُ:

* سَنَةٌ

* سَبْعَةُ أَيَّامٍ

* شَهْرًا

* ثَلَاثُونَ يَوْمًا

* فَصْلًا

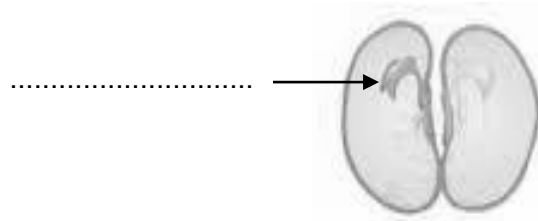
* ثَلَاثَةُ أَشْهُرٍ

* أُسْبُوعًا

* اِثْنَيْ عَشَرَ شَهْرًا

التمرين الرابع: (2.5ن) - لَاحِظْ وَارْتَبِ الْبَيِّنَاتِ لِلرَّسْمِ التَّالِي :

جُدُورٌ - سَاقٌ - أَوْرَاقٌ - نُبْيْتَةٌ



التَّمْرِينُ الْأَوَّلُ : (3ن) . أَكْمِلْ كُلَّ جُمْلَةٍ بِالْكَلِمَةِ الْمُنَاسِبَةِ .

- أَوَّلُ شَهْرٍ فِي السَّنَةِ الْمِيلَادِيَّةِ هُوَ
- يَحْتَاجُ النَّبَاتُ فِي تَغْدِيَّتِهِ إِلَى
- أَوَّلُ شَهْرٍ فِي السَّنَةِ الْهَجْرِيَّةِ هُوَ

التَّمْرِينُ الثَّانِي : (2ن) . أَرِبْطُ بَيْنَ مَجْمُوعَةِ الْأَيَّامِ وَمَا تُمَثِّلُهُ .

- سَبْعَةُ أَيَّامٍ .
- ثَلَاثُونَ يَوْمًا .
- ثَلَاثَةُ أَشْهُرٍ .
- اثْنَا عَشَرَ شَهْرًا .
- سَنَةٌ .
- فَصْلًا .
- شَهْرًا .
- أُسْبُوعًا .

التَّمْرِينُ الثَّلَاثُ : (2ن) أُسَمِّي الْعُنَاصِرَ حَسَبِ اتِّجَاهِ السَّهْمِ: " نُبَيْتَةٌ " - " سَاقٌ " - " جَنْدَرٌ " - " أَوْرَاقٌ "



التَّمْرِينُ الرَّابِعُ : (3ن) أَرْتَّبُ مَرَاكِلَ إِنْتِشِ الْبُدْرَةِ بِوَضْعِ الْأَرْقَامِ: 1 - 2 - 3 - 4 .



اختبار الفصل الثاني في مادة التربية العلمية

التمرين الأول: (1.5 ن)

ـ أكمل كل جملة بالكلمة المناسبة :

- * أول شهر في السنة الميلادية هو
- * أول شهر في السنة الهجرية هو
- * يحتاج النبات في تغذيته إلى

التمرين الثاني: (2 ن)

أرتب مراحل نمو جسم الطفل بالأرقام (1 - 4)



.....

.....

.....

.....

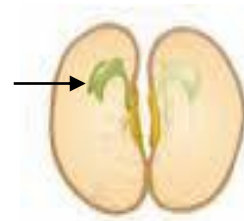

التمرين الثالث: (2 ن):

اربط بين مجموعة الأيام وما تمثله:

- | | |
|------------------|-----------|
| * سبعة أيام | * سنة |
| * ثلاثون يوماً | * شهراً |
| * ثلاثة أشهر | * فصلاً |
| * اثني عشر شهراً | * أسبوعاً |

التمرين الرابع: (2 ن)

لاحظ واكتب البيانات للرسم التالي:



التمرين الخامس: (2.5 ن)

أكمل الفراغات التالية بـ: (سـمـك - أزهار- ثماراً - بذور- طوله)

كلما ينمو النبات يزداد..... و..... جذعه، تظهر عليه..... تعطي..... تحتوي كل ثمرة على.....

العلامة

التمرين الأول: (1.5ن)

- اكْمَلْ كُلَّ جُمْلَةٍ بِالْكَلِمَةِ الْمُنَاسِبَةِ :

*أَوَّلُ شَهْرٍ فِي السَّنَةِ الْمِيلَادِيَّةِ هُوَ

*يَحْتَاجُ النَّبَاتُ فِي تَغْذِيَّتِهِ إِلَى

*أَوَّلُ شَهْرٍ فِي السَّنَةِ الْهَجْرِيَّةِ هُوَ

التمرين الثاني: (2ن)

أَرْتَبْ مَرَاجِلَ نُمُوِّ جِسْمِ الطِّفْلِ بِالْأَرْقَامِ (1- 4)



(.....)



(.....)



(.....)



(.....)

التمرين الثالث:

(4ن) - أربط بين مجموعة الأيام وما تمثله:

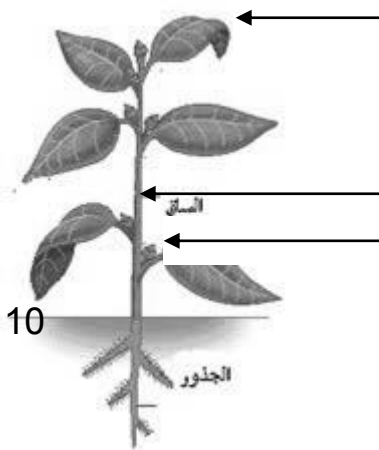
* سَبْعَةَ أَيَّامٍ * سَنَةً

* ثَلَاثُونَ يَوْمًا * شَهْرًا

* ثَلَاثَةَ أَشْهُرٍ * فَصْلًا

* اثْنَيْ عَشَرَ شَهْرًا * أُسْبُوعًا

التمرين الرابع: (2.5ن) - لَاحِظْ وَارْتَبِ الْبَيِّنَاتِ لِلرَّسْمِ التَّالِي :
جُذُورٌ - سَاقٌ - أَوْرَاقٌ - نُبَيْتَةٌ



10



امتحان الفصل الثاني في مادة التربية العلمية والتكنولوجية

ضع كل كلمة تحت صورتها : (2ن) سقي ، حفر ، قص ، رفع التراب ، بذور .



.....

.....

.....

.....

2 - ضع ماذا ياكل كل حيوان : (2.5ن) عشب ، حبوب ، لحم .



.....

.....

.....

.....

.....

أكمل باستعمال الكلمات التالية: (3ن) الجذع ، الماء ، ثمارا ، الذكر ، الأنثى ، الساق .

يحتاج النبات في تغذيته إلى..... وعندما يكبر يعطينا

عندما ينمو النبات يزداد طول وسُمك و

يشترط عند التكاثر وجود و معا .

ضع كل كلمة تحت الصورة المناسبة: (2.5ن) أنثى ، ذكر



.....

.....

.....

.....

.....

قسم السنة الثانية ابتدائي

الأستاذ : السعيد شابي

اختبار الفصل الثاني
في التربية العلمية

الإسم:

اللقب:

العلامة :

السؤال الأول: أصنف الأحداث التالية (3ن)

(تعاقب الليل و النهار) - (أتناول طعامي و أشاهد التلفاز) - (يسوق السيارة و يسمع المذياع)

(أستيقظ ثم أتناول فطوري) - (ألعب و أسجل هدفا) - (تعاقب الفصول الأربعة)

أحداث متتالية	أحداث متزامنة
.....
.....
.....

السؤال الثاني: أكمل الفقرة بما يناسب (1.5ن)

يحتاج النبات لنموه إلى و الأملاح حتى لا

السؤال الثالث: أضع اسما لكل أداة (1.5ن)



.....

.....

.....

السؤال الرابع: اربط بسهم بين الحيوان و طعامه (4ن)

الكلب

حَشَائِش

الزرافة

الحمامة

اللَّحُوم

الفيل

التمساح

حُبُوب

الدجاجة

البقرة

النمر

مدرسة اسماعيل يفصح 2	اختبار التربية العلمية و التكنولوجيا للفصل الثاني	الاسم :
		اللقب :

التمرين الأول: ضع كل حدث في الخانة المناسبة:


أرسم زهرة ثم ألونها - أفرج و أكل - تبيض الدجاجة البيضة ثم تحضنها - خرجت والمطر ينزل - لا أتكلم
و الأستاذ يشرح - أوضأ ثم أصلي .

حدث متزامن	حدث متتالي
..... - -
..... - -
..... - -

التمرين الثاني: ضع الكلمة المناسبة في كل فراغ:

- يحتاج النبات في تغذيته الى ف..... و عند غيابه..... و.....
- يمتص النبات الماء بواسطة..... و ينتقل إلى..... و.....
- يستغرق النشاط القصير مدة زمنية.....

التمرين الثالث: أكمل البيانات المناسبة للرسم:



التمرين الرابع: أكتب (ص) أمام العبارة الصحيحة و (خ) أمام العبارة الخاطئة



- ينمو النبات في الزيت نمواً عادياً(.....)
- يحتاج النبات للماء لكي ينمو(.....)
- السنة مدة زمنية قصيرة (.....)
- النبتة التي تسقى بانتظام تدبّل و تموت (.....)

بالتوفيق يا صغاري

إمضاء الولي