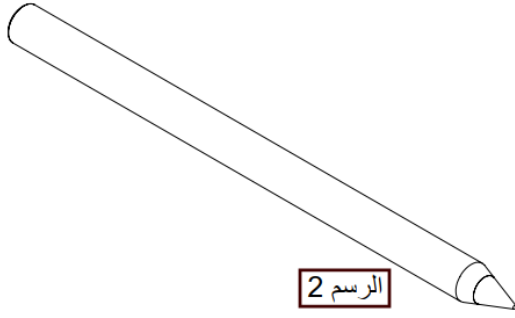


جمعت : 1,2,3,4

مادة التكنولوجيا هندسة ميكانيكية

الاسم : .....

المدة : 01 ساعة



**تقديم :** أيمن تلميذ بثانوية أبو بكر قراوي  
نفذ منه السيال فذهب الى المكتبة و  
اشترى سيال لشركة BIG .

## العمل المطلوب

**1 -** صنف المؤسسات التالية حسب طبيعتها : (2.25 ن)

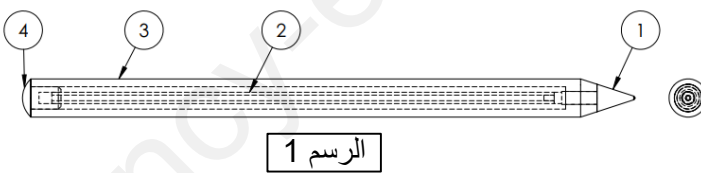
ثانوية أبو بكر قراوي : مؤسسة .....  
مكتبة : مؤسسة .....  
شركة BIG : مؤسسة .....

**2 -** اكمل تسمية الرسوم التالية : (2.25 ن)



الرسم 1 : رسم .....  
الرسم 2 : رسم .....  
الرسم 3 : رسم .....

**3 -** اجب عن الاسئلة التالية للرسم المقابل : (5.25 ن)



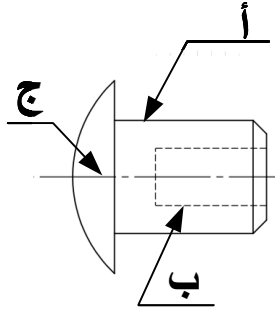
الرسم 1

الرقم	العدد	التعيين	المادة	الملاحظة
4	1	غطاء	بلاستيك	
3	1	جسم	بلاستيك	
2	1	عبوة	بلاستيك	
1	1	رأس	صلب	
الرقم	العدد	التعيين	المادة	الملاحظة
الاسم	محاطلة	ثانوية ابو بكر قراوى سطيف	الاسم	2 : 3
2 تره ميكا	16/11/2025	سيال	النقطة	A4

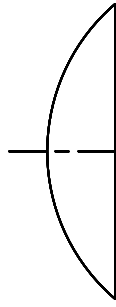
ما هو سلم الرسم : ..... وما نوعه : .....  
ما هو مقاس الرسم : ..... وما نوعه : .....  
ما هو عدد المساقط : .....  
تسمية المنطقة أ : .....  
تسمية المنطقة ب : .....

4 - اكمل رسم الغطاء 4 بمقياس 3:2 مع ذكر أسماء الخطوط الثلاثة ؟

3 ن



مقياس 1:1



مقياس 3:2

أ : .....  
ب : .....  
ج : .....

5 - لرسم الغطاء 4 بواسطة الحاسوب نستعمل برمجي يسمى : .....

1 ن

ما هو الأسلوب المناسب لرسم الغطاء 4 : .....

6 - باتباع طريقة تناسب المساقط اتمم مساقط القطعة مع ذكر اسم كل مسقط ؟

6 ن

① .....  
② .....  
③ .....

