

اختبار الفصل الاول في الرياضيات

التمرين الاول: اتمم الشريط التالي

117	124
-----	-----	-----	-----	-----	-----	-----	-----

التمرين الثاني: انجز العمليات التالية

$$\begin{array}{r}
 571 \\
 + 19 \\
 \hline
 =
 \end{array}
 \qquad
 \begin{array}{r}
 100 \\
 + 99 \\
 \hline
 =
 \end{array}
 \qquad
 \begin{array}{r}
 103 \\
 + 421 \\
 \hline
 =
 \end{array}
 \qquad
 \begin{array}{r}
 135 \\
 + 121 \\
 \hline
 =
 \end{array}$$

التمرين الثالث: قارن ب (> ، < ، =)

$$101.101 / 145.154 \quad / \quad 190.194 / 99.152$$

التمرين الرابع: فكك حسب المثال

$$127 = (1 \times 100) + (2 \times 10) + 7$$

$$154 = (\dots \times \dots) + (\dots \times \dots) + \dots \quad / \quad 103 = (\dots \times \dots) + (\dots \times \dots) + \dots$$

اختبار شهر نوفمبر فى مادة الرياضيات

السنة الثانية ابتدائى

التمرين الأول: أكتب بالأرقام الأعداد التالية

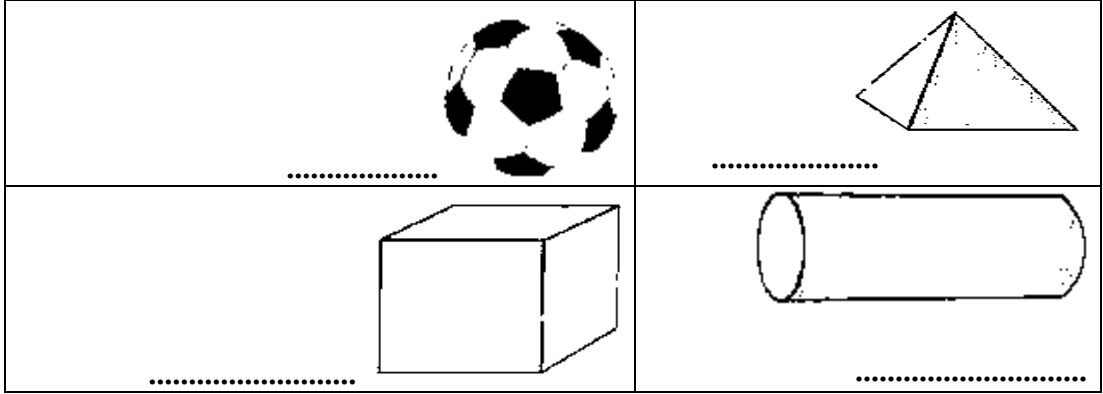
ثلاثمائة وواحد

مائتان وخمسة عشر

خمسة وسبعون

مائة وعشرة

التمرين الثانى : أسمى هذه المجسمات ثم ألون تلك التي لاتتدحرج



التمرين الثالث: أكمل الشريط بهذه الأعداد : 340 - 360 - 320 - 380

300	400
-----	-------	-------	-------	-------	-----

التمرين الرابع : ألاحظ المثال ثم أكمل

$$\text{المثال: } 357 = 300 + 50 + 7$$

$405 = \dots + \dots + \dots$	$\dots = 100 + 20 + 2$
$\dots = 300 + 60 + 9$	$215 = \dots + \dots + \dots$

التمرين الخامس:

أنجز عمليات الجمع التالية:

$$\begin{array}{r} \dots \\ + 111 \\ \hline 477 \end{array}$$

$$\begin{array}{r} 258 \\ + 159 \\ \hline \dots \end{array}$$

$$\begin{array}{r} 200 \\ + \dots \\ \hline 500 \end{array}$$

$$\begin{array}{r} 123 \\ + 230 \\ \hline \dots \end{array}$$


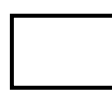


اختبار شهر أكتوبر فى مادة الرياضيات

السنة الثانية ابتدائي

التمرين الأول: أصل بين كل عددين مجموعهما 100

90	50	30	60
50	40	10	70

التمرين الثاني: أكمل الرسم لتظهر نفس الاشكال على استقامة واحدة

التمرين الثالث: اكتب مكان النقطة الرمز المناسب: ($>$ ، $=$ ، $<$)

180 . 108	58 . 133	101 . 101	148 . 125
-----------	----------	-----------	-----------

التمرين الرابع : اكتب العمليات عموديا ثم انجزها

80 + 100 = ...	119 + 36 = ...	145 + 121 = ...	105 + 15 = ...
$\begin{array}{r} \dots\dots\dots \\ + \dots\dots\dots \\ \hline \dots\dots\dots \end{array}$	$\begin{array}{r} \dots\dots\dots \\ + \dots\dots\dots \\ \hline \dots\dots\dots \end{array}$	$\begin{array}{r} \dots\dots\dots \\ + \dots\dots\dots \\ \hline \dots\dots\dots \end{array}$	$\begin{array}{r} \dots\dots\dots \\ + \dots\dots\dots \\ \hline \dots\dots\dots \end{array}$

التمرين الخامس:

بمناسبة عيد الأضحى المبارك باع فلاح 52 خروفا في اليوم الأول ثم باع 100 خروف في اليوم الثاني. جد عدد الخرفان التي باعها هذا الفلاح.

الإجابة: عدد الخرفان التي باعها هو:

.....
.....
.....
.....

التمرين الأول (1.5 ن) : ألاحظ و أكمل بكتابة الأعداد المناسبة

370	375	410
-----	-----	-------	-------	-------	-------	-------	-------	-----

التمرين الثاني (3 ن) : أكتب الأعداد التالية على الجدول

م	ع	آ
.....
.....
.....
.....

- رقم العشرات 9 و رقم الآحاد 7

- عدد العشرات 45 و رقم الآحاد 1

- رقم المئات 3 و رقم الآحاد 2

- ثلاثمائة و أربعة

التمرين الثالث (2 ن) : أملأ الفراغ بعدد رقم أحاده 7


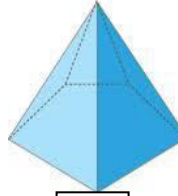
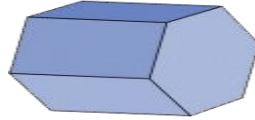
124 < < 130

211 < < 222

300 < < 310

412 > > 399

التمرين الرابع (1.5 ن) : أتاثل المجسمات التالية و أضع العلامة (x) تحت كل جسم وجوهه مستوية



التمرين الخامس (2 ن) : تملك سميرة المبلغ الآتي



- كم تملك سميرة ؟

في يوم العيد أعطها الجد المبلغ الآتي



- كم أعطها الجد ؟

- كم صار عندها ؟

.....
.....
=

- أرادت شراء لعبة ثمنها 168 دينارا هل تستطيع ذلك ؟

اللقب :

يوم

الاسم :

السنة الثانية ابتدائي .

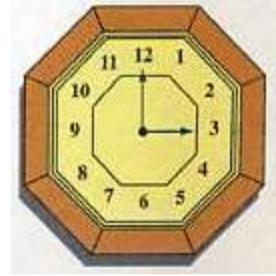
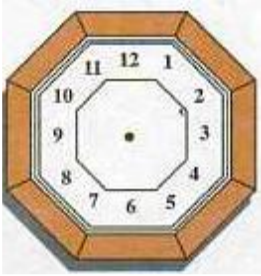
اختبار الفصل الأول في الرياضيات

10

التمرين الأول : أضع العدد المناسب مكان النقط

$$363 < \dots < 383 \quad ; \quad 200 > \dots > 150$$
$$132 < \dots < 139 \quad ; \quad 408 > \dots > 406$$

التمرين الثاني : أرسم العقارب أو أكتب الوقت



الساعة تُشير إلى التاسعة

الساعة تُشير إلى

التمرين الثالث : أرّتب الأعداد التالية تنازلياً :

329 - 219 - 418 - 132 - 375

..... > > > >

المشكلة : اشترى عامر من دكان الحَيِّ اللُّوبِيَا بـ 250 دينار

و الياغورت بـ 120 ديناراً و عُلبَة جُبْنٍ بـ 95 دينار .

مَا هُوَ مَجْمُوع مَا يَدْفَعُهُ عَامِرُ إِلَى التَّاجِرِ ؟

.....

+

.....

+

.....

.....

.....

.....

.....

.....

.....

.....

.....

.....

.....

.....

.....

.....

.....

.....

.....

.....

.....

.....

الجواب : يدفع عامر إلى التاجر دينارا

بالتوفيق

إمضاء الولي .

اللقب :

يوم

الاسم :

السنة الثانية ابتدائي .

النّص :

يَتَنَاوَلُ جَمِيعُ النَّاسِ أَغْذِيَّةً مُتَنَوِّعَةً. تُصَنَّفُ هَذِهِ الْأَغْذِيَّةُ كُلُّهَا فِي ثَلَاثِ
مَجْمُوعَاتٍ هِيَ : السُّكَّرِيَّاتُ وَ الْبُرُوتِينَاتُ وَ الدُّسَمُ.
تُوجَدُ السُّكَّرِيَّاتُ فِي السُّكَّرِ وَ الْبَطَاطَا وَ الْخُبْزِ وَ الْعَسَلِ وَ الْفَوَاكِه...
وَهِيَ الَّتِي تُعْطِي أَجْسَامَنَا الطَّاقَةَ فَتَجْعَلُهَا قَوِيَّةً.

الأسئلة :

- إِلَى كَمْ مَجْمُوعَةٍ تُصَنَّفُ الْأَغْذِيَّةُ ؟ وَ مَا هِيَ ؟

• تُصَنَّفُ الْأَغْذِيَّةُ إِلَى

وَ هِيَ

- مَا هُوَ دَوْرُ السُّكَّرِيَّاتِ ؟

• دَوْرُ السُّكَّرِيَّاتِ هُوَ :

- أَشْطَبُ الْإِجَابَةِ الْخَاطِئَةُ

معناها	الكلمة
يَشْرَبُ - يَأْكُلُ	يَتَنَاوَلُ
الْقُدْرَةُ - النَّافِذَةُ	الطَّاقَةُ
تُرَكَّبُ - تُوزَعُ	تُصَنَّفُ

- استخرج من النص كلمات بها الحروف التالية

ب	ر
.....
.....

- أضع (نَعْتَنِي) , (نُنْظِفَ) , (تَتَوَسَّخُ)

• مِنْ الضَّرُورِي أَنْ أَجْسَامَنَا

• يَنْبَغِي أَنْ بِطَرِيقَةٍ لِبَاسِنَا

• كَثِيرًا مَا مَلَابِسُنَا بِالْغُبَارِ وَ الْعَرَقِ .

- أَرْتَبُ الْجَمَلَ التَّالِيَةَ فِي فَقْرَةٍ

• وَ هِيَ تُسَاعِدُ أَجْسَامَنَا عَلَى النُّمُو

• تُوجَدُ الْبُرُوتِينَاتُ فِي اللَّحُومِ

• وَ الدَّوَّاجِنِ وَ الْأَسْمَاكِ وَ الْبَيْضِ

الفقرة

.....

.....

.....

.....

بالتوفيق

إمضاء الولي .

نوفمبر 2014

مدرسة عبد الحميد بن باديس بركة

العلامة :

الاسم و اللقب :

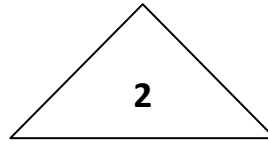
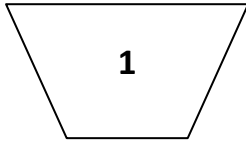
اختبار في مادة الرياضيات

1 - أرتب الأعداد من الأصغر إلى الأكبر :

490 ، 398 ، 376 ، 420 ، 189 .

.. < .. < .. < .. < ..

2 - أتم الجدول :



الشكل	1	2	3
عدد الرؤوس	.	.	.
عدد الأضلاع	.	.	.

3 - اكمل بكتابة الأعداد المناسبة :

$$420 = . + 20$$

$$376 = . + . + 6$$

$$500 = 100 + 200 + .$$

4 - أخذ محمد من أبيه 98 ديناراً ، اشترى لعبة بـ 45 ديناراً .

- كم ديناراً يرجع لأبيه ؟

	<p>.....</p> <p>.....</p>
--	---------------------------

الصف: الثانية ابتدائي

ابتدائية مصطفى بن بولعيد (دبيديبي - الحجيرة - ورقلة)

الموسم الدراسي (2016/2015) المدة 90

الاسم واللقب:

10

اختبار الفصل الاول في الرياضيات

التمرين الأول : أكمل الشريطين التاليين

230	231				235		237			
-----	-----	--	--	--	-----	--	-----	--	--	--

490		492				496			499	
-----	--	-----	--	--	--	-----	--	--	-----	--

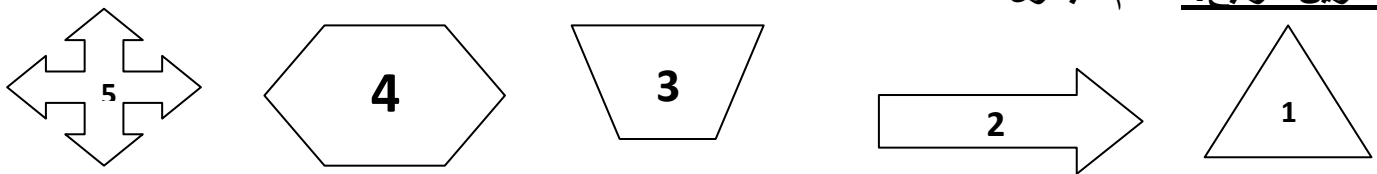
التمرين الثاني: فكك وركب الاعداد التالية حسب الوضعية

فكك كل عدد حسب المجموع	ركب العدد حسب كل وضعية
$436 = \dots + \dots + \dots$	$\dots = 200 + 90 + 1$
$308 = \dots + \dots + \dots$	$\dots = 400 + 40 + 4$
$257 = \dots + \dots$	$\dots = 300 + 76$
$500 = \dots + \dots + \dots$	$\dots = 200 + 0 + 5$

التمرين الثالث: رتب الاعداد حسب الجدول

رتب الاعداد التالية من الاكبر الى الاصغر	رتب الاعداد التالية من الاكبر الى الاصغر
500 , 205 , 110 , 260 , 312 , 420 , 500	500 , 200 , 444 , 480 , 300 , 100
$\dots < \dots < \dots < \dots < \dots < \dots < \dots$	$\dots > \dots > \dots > \dots > \dots > \dots$

التمرين الرابع: أتمم الجدول



5	4	3	2	1	
					عدد الرؤوس
					عدد الاضلاع

التمرين الخامس:

غرس فلاح 406 شجرة تفاح و 72 شجرة برتقال و 6 أشجار ليمون

كم شجرة غرس الفلاح ؟

العمليات

الحل

الجواب

..... =

غرس الفلاح شجرة

+

+

=

امتحان الفصل الأول في مادة الرياضياتالتمرين الأول: 2ن

$\begin{array}{r} 245 \\ + 23 \\ \hline \end{array}$	$\begin{array}{r} 351 \\ + 64 \\ \hline \end{array}$	$\begin{array}{r} 245 \\ + 234 \\ \hline \end{array}$	$\begin{array}{r} 158 \\ + 337 \\ \hline \end{array}$
...

التمرين الثاني: 1ن أكمل كتابة الأعداد :

285	290	315
-----	-----	---	---	---	---	-----

التمرين الثالث: 3ن

الشكل	عدد الأضلاع	عدد الرؤوس
		
		
		

التمرين الرابع : 1.5ن أكمل

10 هو نصف 50 هو نصف 40 هو ضعف

التمرين الخامس: 2.5ن

* اشترت سلمى الأدوات التالية :

مسطرة بـ 20 دج ، وكُرّاس بـ 25 دج و قصّة بـ 105 دج . * ما هو المبلغ الذي ستدفعه للمكتبيّ؟

الأجوبة	العمليات
.....	
المبلغ الذي ستدفعه للمكتبي هو : دينارًا	

القسم: الثاني ابتدائي

الاسم والاسم:

اختبار الفصل الأول في الرياضيات

2016

2015

التمرين الأول

أنجز العمليات التالية عموديا :

$$160 + 342 = \dots\dots$$

$$309 + 97 = \dots\dots$$

$$64 + 634 = \dots\dots$$

التمرين الثاني

أكمل ملء الجدول :

العدد	نصفه	ضعفه
8
.....	3
.....	4

التمرين الثالث

أقارن بين كل عددين بوضع الرمز ($>$ - $=$ - $<$) :

$$300 + 45 \dots\dots 345$$

$$401 \dots\dots 400$$

$$136 \dots\dots 236$$

التمرين الرابع

أرسم قطعة مستقيم طولها 4 سم

أكمل المساواة 4 سم = مم

ما هو طول نصف القطعة بالمليمتر؟

الوضعية الإدماجية

غرس فلاح في اليوم الأول 137 شجيرة وفي اليوم الثاني 207 شجيرة

ما هو عدد الشجيرات المغروسة؟

بعد شهر يبست 34 شجيرة .

ما هو عدد الشجيرات الصالحة؟

الأجوبة

العمليات

الاسم واللقب:

المدرسة:

الموسم الدراسي: 2016/2015

المستوى : الثانية ابتدائي

اختبار الفصل الأول في الرياضيات

التمرين الأول: املأ الفراغ بعدد رقم احاده 6

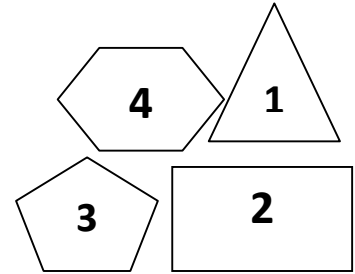
118 < < 110 ، 230 < < 220 ، 410 < < 400 ، 100 < < 90

التمرين الثاني : رتب الأعداد الآتية ترتيبا تنازليا

213 - 156 - 216 - 400 - 74 - 456

التمرين الثالث : اكمل ملأ الجدول

الشكل	الشكل	الشكل 2	الشكل 1	
4	3			عدد الرؤوس
				عدد الاضلاع



التمرين الرابع: ألاحظ وأكمل الشريط العددي

370	375
-----	-----	-------	-------	-------	-------	-------	-------

التمرين الخامس :

باع تاجر في اليوم الأول 125 حبة بيض وفي اليوم الثاني 72 بيضة .

كم باع التاجر من بيضة في اليومين معا ؟

الحل

.....

+

=