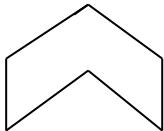


اختبار شهر افريل
في مادة الرياضيات

3×1	<p>أنجز العمليات الآتية :</p> $\begin{array}{r} 870 \\ - 644 \\ \hline \end{array}$ $\begin{array}{r} 685 \\ - 476 \\ \hline \end{array}$ $\begin{array}{r} 264 \\ + 136 \\ \hline \end{array}$	التمرين الأول
6×0.5	<p>أكمل ما يلي :</p> $4 + 4 + 4 + 4 =$ $.. \times .. =$ $10+10+10+10+10+10 =$ $.. \times .. =$ $4 \times 5 =$ $.. + + .. + =$	التمرين الثاني
3×0.5	<p>انقل الشكل وعين عدد الأضلاع وعدد الرؤوس .</p> 	التمرين الثالث
1.5 1	<p>في خزانة القسم مجموعة من الكتب مرتبة في 4 رفوف . في كل رف 20 كتابا . - احسب عدد الكتب الموجودة في الخزانة بطريقتين .</p>	الوضعية الإدماجية

اختبار شهر أفريل في مادة الرياضيات

1. التمرين الأول: (2ن) أنجز العمليات التالية:

$$\begin{array}{r} 805 \\ - \dots \\ \hline 503 \end{array}$$

$$\begin{array}{r} 877 \\ - 657 \\ \hline \dots \end{array}$$

$$\begin{array}{r} 339 \\ + \dots \\ \hline 853 \end{array}$$

$$\begin{array}{r} 275 \\ + 625 \\ \hline \dots \end{array}$$

2. التمرين الثاني: (2ن) أكمل حسب المثال : $2+2+2 = 2 \times 3 = 6$

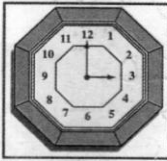
$$7+7+7 = .X . = .. \quad 5+5+5 = .X . = .. \quad 4+4+4+4 = .X . = .. \quad 6+6+6 = .X . = ..$$

3. التمرين الثالث: (2ن) أنجز العمليات التالية:

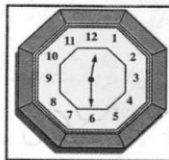
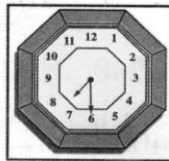
$$23 \times 10 = .. \quad 282 \times 10 = .. \quad 33 \times .. = 330 \quad 10 \times .. = 100$$

4. التمرين الرابع: (2ن) أكمل ما يلي :

أَوْقَاتُ الْعَمَلِ مَسَاءً



أَوْقَاتُ الْعَمَلِ صَبَاحًا



- يفتح المحل أبوابه صباحا على الساعة :

- يفتح المحل أبوابه مساء على الساعة :

- أكتب ساعة اغلاق المحل صباحا :

- أكتب ساعة اغلاق المحل مساء :

5. التمرين الخامس: (2ن) - المسألة:

- اشترى لبّان 42 صناديق في كلّ صندوق 10 أكياس من الحليب
- كم كيسا من الحليب اشترى ؟

.....

.....

باع 419 كيسا من الحليب

- كم كيسا من الحليب تبقى له ؟

.....

.....

اختبار شهر أفريل في مادة الرياضيات

التمرين الأول: أكمل ملء الجدول التالي:

العدد	ضعفه	نصفه
8
...	20	...
...	...	3

التمرين الثاني: أنجز العمليات التالية:

$$\begin{array}{r} 845 \\ + 275 \\ \hline \end{array} \quad \begin{array}{r} 834 \\ + 309 \\ \hline \end{array} \quad \begin{array}{r} 657 \\ + 853 \\ \hline \end{array} \quad \begin{array}{r} 625 \\ + 275 \\ \hline \end{array}$$

التمرين الثالث: أجز عمليات الضرب الآتية:

$$\begin{array}{r} 12 \\ \times 10 \\ \hline \end{array} \quad \begin{array}{r} 72 \\ \times 5 \\ \hline \end{array} \quad \begin{array}{r} 14 \\ \times 3 \\ \hline \end{array} \quad \begin{array}{r} 36 \\ \times 2 \\ \hline \end{array}$$

التمرين الرابع : أضع العلامة (< أو > أو =) في الفراغ

$$496 - 25 \dots 300 + 75 \quad 26 \times 2 \dots 40 + 12$$

$$560 \dots 300 + 260 \quad 851 \dots 581$$

المسألة:

اشترى لبّان 4 صناديق في كلّ صندوق 10 أكياس من الحليب

- كم كيسا من الحليب اشترى؟

- باع 15 كيسا .

- كم كيسا بقي له؟

الحل

$$\begin{array}{l} \dots = \dots \\ \text{اشترى اللّبان} \dots \text{كيسا} \\ \dots = \dots \\ \text{بقي له} \dots \text{كيسا} \end{array}$$

<div> <div>4×075</div> <div>3</div> </div>	<div> <div>أنجز العمليات الآتية</div> <div> <div>22 × 3 = .</div> <div>33 × 2 = .</div> <div>36 × 10 = .</div> <div>42 × 4 = .</div> </div> </div>	<div> <div>التمرين</div> <div>الأول</div> </div>															
<div> <div>4×0.5</div> <div>2</div> </div>	<div> <div>لاحظ المرصوفة وعين النقط</div> <div> <div> <div>د</div> <div>ج</div> <div>ب</div> <div>ا</div> </div> <table> <tr> <td></td> <td></td> <td></td> <td></td> <td>1</td> </tr> <tr> <td></td> <td></td> <td></td> <td></td> <td>2</td> </tr> <tr> <td></td> <td></td> <td></td> <td></td> <td>3</td> </tr> </table> </div> </div>					1					2					3	<div> <div>التمرين</div> <div>الثاني</div> </div>
				1													
				2													
				3													
<div> <div>2</div> </div>	<div> <div> أراد احمد أن يعرف وزن أرنبه فوضعه في إحدى كفتي الميزان ووضع في الكفة الأخرى المعايير التالية : 400 غراما ، 100 غرام ، 50 غراما ، 20 غراما . -احسب وزن الأرنب . </div> </div>	<div> <div>التمرين</div> <div>الثالث</div> </div>															
<div> <div>3 × 1</div> <div>3</div> </div>	<div> <div> في مكتبة سمير 4 رفوف في كل رف 22 كتابا - احسب عدد الكتب الموجودة في المكتبة . اتلف الفار 20 كتابا -كم كتابا بقي في المكتبة </div> </div>	<div> <div>الوضعية</div> <div>الإدماجية</div> </div>															

التمرين الأول: ضع العلامة : < أو = أو > مكان النقطة

$$15 + 3 + 8 . 32 \quad , \quad 5 \times 3 . 10 \quad , \quad 3 \times 4 . 6 \times 2$$

التمرين الثاني: أكمل بالعدد المناسب :

$$9 \times 3 = \quad , \quad 8 \times = 32 \quad , \quad 6 \times = 60$$

التمرين الثالث: ضع العلامة (×) في الخانة المناسبة :

- تزن علبة قهوة : 250 غ كغ

- تزن دجاجة : 2 كغ غ

- طول القلم الرصاص : 15 سم م

cm

cm

3

6 وعرضه

ارسم مستطيلا طوله

التمرين الرابع:

— عين عليه كل الزوايا القائمة .

الوضعية الإدماجية :

- غرس تلاميذ مدرستنا ثلاثة صفوف من الشجيرات ، في كل صف سبع شجيرات .

- كم شجيرة غرس التلاميذ ؟

قبل الغرس عد التلاميذ 43 شجيرة غرسها تلاميذ المدارس الأخرى .

- ما هو عدد كل الشجيرات بعد الغرس ؟

بعد شهر ماتت 14 شجيرة .

- ما هو عدد الشجيرات الحية ؟

اختبار الفصل الثالث في الرياضيات

1 (أَقَارُنْ بِاسْتِعْمَالِ : < > = : 2 ن

$$10 \times 50 \quad . \quad 700 - 200$$

$$4 + 22 \quad . \quad 22 \times 4$$

$$9 \times 4 \quad . \quad 3 \times 13$$

$$4 \times 6 \quad . \quad 8 \times 3$$

2 (أَضَعِ الْأَشْكَالَ التَّالِيَةَ فِي الْخَانَةِ الْمُنَاسِبَةِ : 2 ن

	أ	ب	ج	د	هـ	و	ي
1							
2							
3							
4							

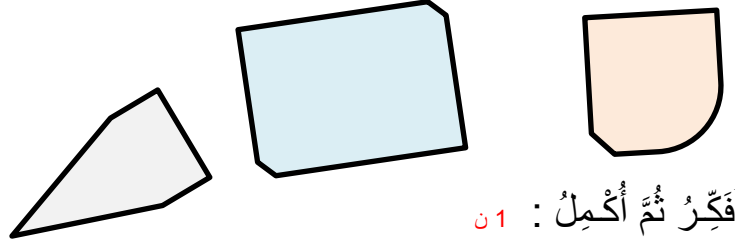
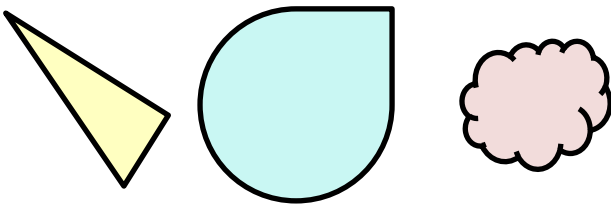
▲ (3 . هـ)

◀ (1 . ج)

★ (4 . ب)

◆ (2 . ي)

3 (أَعَيِّنِ الزَّوَايَا الْقَائِمَةَ بِاسْتِعْمَالِ الْكُوس : 2 ن



4 (أَفَكِّرْ ثُمَّ اكْمِلْ : 1 ن

يَوْمَانِ = ساعة .

سَنَةٌ وَاحِدَةٌ = شَهْرًا .

5 (المسألة : 3 ن

اِشْتَرَى الْأَبُ 4 غُلَبَ يَافُورَتْ بِـ 21 دِينَارًا لِلْعُلْبَةِ الْوَاحِدَةِ .

• مَا هُوَ ثَمَنُ كُلِّ الْغُلْبِ ؟

أَعْطَى الْأَبُ لِلْبَائِعِ 100 دِينَار .

• مَا هُوَ الْمَبْلَغُ الَّذِي أَرْجَعَهُ الْبَائِعُ لِلْأَبِ ؟

• مَثَلُ الْمَبْلَغِ الْمُتَبَقِّي بِقِطْعِ نَقْدِيَّةٍ .

السؤال الأول

أنجز العمليات التالية:

$$\begin{array}{r} 258 \\ + 741 \\ \hline \end{array}$$

$$\begin{array}{r} 583 \\ + 259 \\ \hline \end{array}$$



$$\begin{array}{r} 420 \\ - 339 \\ \hline \end{array}$$

$$\begin{array}{r} 26 \\ \times 5 \\ \hline \end{array}$$

السؤال الثاني

ألاحظ الجدول




م	ل	س	
			5
			6
			7

أضع  في الخانة 6م أضع  في الخانة 5س

أضع في الخانة 6م

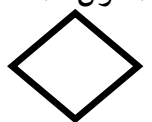
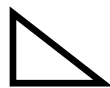
السؤال الثالث

أكتب تحت الساعة الزمن الذي تشير إليه :



السؤال الرابع

ألون الشكل الذي له زوايا قائمة:



الوضعية الادماجية

مع أحمد 700 ديناراً، اشترى 4 قصص ثمن الواحدة 65 ديناراً وقلماً بـ 15 دينار ومقلماً بـ 120 ديناراً.

ما ثمن القصص ؟

کم صرف أحمد ؟

ما هو المبلغ الباقي ؟

This image shows a full page of dot grid paper. A solid vertical line runs down the center-right of the page, creating a narrow column on the right side. The rest of the page is filled with a uniform grid of small dots.

التمرين الأول : أرتب الأعداد من الأكبر إلى الأصغر بدءا من اليسار

546 - 321 - 312 - 289 - 516 - 247

التمرين الثاني

أضع الرمز (= , < , >) مكان النقط

913 3+10+900 / 800 60 - 870 / 560 40 - 600

514 405 / 990 8+190+800 / 150 4 × 6

التمرين الرابع : صل بين النقط حتى تتحصل على أشكال هندسية ثم اكمل الناقص.

هذا له أضلاع

هذا له أضلاع

هذا له أضلاع

التمرين الرابع : أنجز العمليات التالية :

$$\begin{array}{r} 275 \\ + 413 \\ \hline \end{array}$$

$$\begin{array}{r} 791 \\ + 189 \\ \hline \end{array}$$

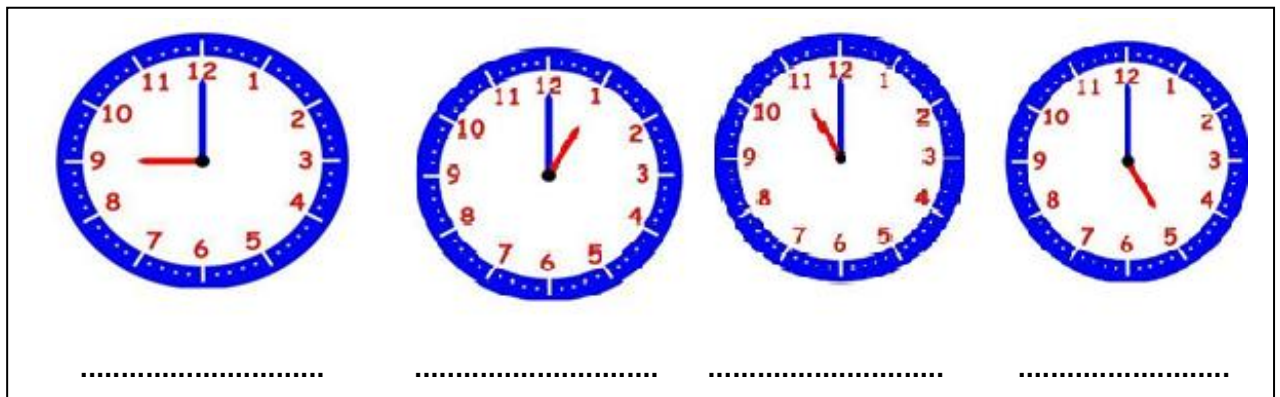
$$\begin{array}{r} 40 \\ \times 3 \\ \hline \end{array}$$

$$\begin{array}{r} 870 \\ - 644 \\ \hline \end{array}$$

$$\begin{array}{r} 685 \\ - 476 \\ \hline \end{array}$$

$$\begin{array}{r} 264 \\ + 136 \\ \hline \end{array}$$

التمرين الخامس : أكمل.



الحل

الوضعية الإدماجية

اشترى لبنان 3 صناديق في كل صندوق 30 كيسا من الحليب

- كم كيسا من الحليب اشترى؟

- باع 15 كيسا .

- كم كيسا بقي له؟

الصف: الثانية ابتدائي

ابتدائية مصطفى بن بولعيد (دبيديبي - الحجيرة - ورقلة)

الموسم الدراسي (2016/2015) المدة 90

الاسم واللقب:

10

اختبار الفصل الثالث في الرياضيات

التمرين الأول : أكمل الشريطين التاليين

100	200						800
-----	-----	--	--	--	--	--	-----

500	550		650			800			
-----	-----	--	-----	--	--	-----	--	--	--

التمرين الثاني: حول الى مجموع /حول الى جداء

فكك كل عدد حسب المجموع	ركب العدد حسب كل وضعية
$6+6+6=.$ \times .	$3 \times 3 = . + . + .$
$5+5=.$ \times . = .	$10 \times 3 = . + . + . = .$

التمرين الثالث: انجز عمليات الطرح التالية

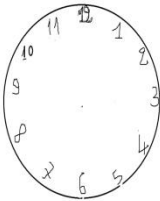
$$\begin{array}{r} 250 \\ - 100 \\ \hline \end{array}$$

$$\begin{array}{r} 958 \\ - 48 \\ \hline \end{array}$$

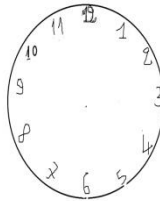
$$\begin{array}{r} 456 \\ - 326 \\ \hline \end{array}$$

$$\begin{array}{r} 215 \\ - 311 \\ \hline \end{array}$$

التمرين الرابع : لاحظ الساعة وحدد الزمن ثم لاحظ الزمن وارسم العقربين



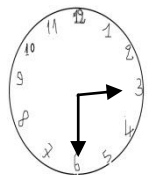
10 : 00



05 : 20



..... :



..... :

التمرين الخامس:

غرس فلاح 406 شجرة تفاح و 121 شجرة برتقال

كم شجرة غرس الفلاح ؟

لما هبت الرياح تكسرت 25 شجرة

كم شجرة بقيت عنده؟

الجواب

الحل

العمليات

.....=.....

غرس الفلاح شجرة

.....=.....

بقيت عنده شجرة