


الصف :الاولى ابتدائي  
الاسم واللقب.....

ابتدائية مصطفى بن بولعيد(دبيديبي -الحجيرة- ورقلة )  
التاريخ(2015/03/04)المدة90د

### اختبار الفصل الثاني في التربية العلمية

10

السؤال الاول : أكمل بـ ( حيواني (ح) ، نباتي (ن) معدني (م) )

☐☐☐☐☐

السؤال الثاني : أربط بسهم بين المادة وطبيعتها



سائل

صلب

السؤال الثالث : اكمل بـ (6،7،8) ( الثلاثاء ،الأحد ، الاثنين ، السبت ، الخميس ' الاربعاء ، الجمعة )

عدد أيام الاسبوع ..... هي بالترتيب

						السبت
--	--	--	--	--	--	-------

السؤال الرابع : أكمل بـ ( يتكرر ، لا يتكرر )



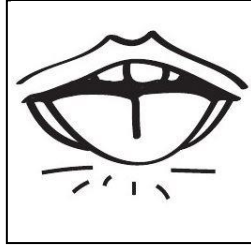
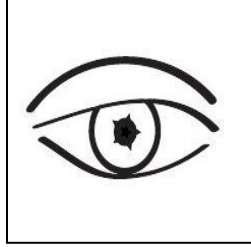



لا يتكرر

يتكرر

## اختبار الفصل الثاني في مادة التربية العلمية

التمرين الأول : أربط بين كل عضو وحاسته



الرؤية




اللمس

الشم

السمع

الدوق

التمرين الثاني: أكتب نوع مصدر الغذاء. حيواني - نباتي



.....

.....

.....

.....

.....

التمرين الثالث: أضع علامة ( X ) أمام العبارة الخاطئة وعلامة ( ✓ ) أمام العبارة الصحيحة .

يتحول الجليد بفعل الحرارة إلى ماء . ☐

عيد الأضحى حدث لا يتكرر . ☐

ينبض قلبي باستمرار من غير توقف . ☐

## اختبار الفصل الثاني في نشاط التربية العلمية والتكنولوجية

التمرين الأول ( 02.5 ن):

أَرَبِّطْ بَيْنَ كُلِّ عَضْوٍ وَحَاسَتِهِ

الْعَيْنُ	الأُذُنُ	الأنفُ	اللِّسَانُ	اليَدُ
الدَّوْقُ	اللمسُ	الرُّؤْيَا	السَّمْعُ	الشَّمُّ

التمرين الثاني ( 02.5 ن):

أَمَيِّزْ مَصَادِرَ هَذِهِ الْأَغْذِيَةِ بِتَلْوِينِهَا : بِالْأَخْضَرِ إِذَا كَانَ الْمَصْدَرُ نَبَاتِيًّا وَ بِالْأَحْمَرِ إِذَا كَانَ الْمَصْدَرُ حَيَوَانِيًّا



التمرين الثالث ( 02.5 ن):

أُصَنِّفُ الْأَجْسَامَ الْآتِيَةَ فِي الْجَدُولِ :

مِسْمَارٌ - نُفَاحَةٌ - مِقْصٌ - سِكِّينٌ - كُرَّةٌ

تطفو فوق الماء	لا تطفو فوق الماء

التمرين الرابع ( 02.5 ن):

أَضَعُ ( يَتَكَرَّرُ - لَا يَتَكَرَّرُ ) أَمَامَ كُلِّ حَدَثٍ :





- |                      |                    |
|----------------------|--------------------|
| * عيد الميلاد .....  | * عيد الفطر .....  |
| * المَوْتُ .....     | * الْخِتَانُ ..... |
| * الدَّرَاسَةُ ..... |                    |

الاسم: .....	اختبار الفصل الثاني في مادة	مدرسة: .....
اللقب: .....	التربية العلمية و التكنولوجيا	الصف الأول ابتدائي
		السنة الدراسية: 2016 / 2015

## 1 أَضِعْ الْكَلِمَةَ الْمُنَاسِبَةَ مَكَانَ النُّقْطِ: ( الذُّوقِ ، السَّمْعِ ) (1ن)

أَتَعَرَّفُ عَلَى الْأَصْوَاتِ الْمُخْتَلِفَةِ بِحَاسَّةِ.....، وَ عَلَى الْأَذْوَاقِ بِحَاسَّةِ .....

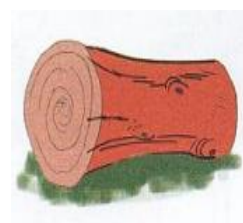


## 2 أَرِطْ بَسْطَهُم بَيْنَ الْغِذَاءِ وَ مَصْدَرِهِ. (2.5ن)



## 3 أَكْتُبْ تَحْتَ الصُّورَةِ الْحَالَةَ الَّتِي عَلَيْهَا الْجِسْمُ: صَلْبٌ / سَائِلٌ. (2.5ن)

.....	.....	.....	.....	.....

## 4 أَضِعْ عَلامَةَ (X) تَحْتَ الْأَجْسَامِ الصَّلْبَةِ الَّتِي تَتَحَوَّلُ إِلَى سَائِلَةٍ بِفِعْلِ الْحَرَارَةِ. (2ن)



## 5 أَضِعْ (ص) لِلعِبَارَةِ الصَّحِيحَةِ وَ (خ) لِلعِبَارَةِ الْخَاطِئَةِ. (2ن)

❖ الْإِكْتَارُ مِنْ تَنَاوُلِ الْمَشْرُوبَاتِ الْغَازِيَةِ مُفِيدٌ لِلصِّحَّةِ. (.....)



❖ يَدْخُلُ الْهَوَاءُ وَ يَخْرُجُ مِنَ الْأَنْفِ فَقَطْ. (.....)

❖ قَلْبِي يَنْبُضُ بِاسْتِمْرَارٍ دُونَ تَوَقُّفٍ. (.....)

❖ يَتَكَوَّنُ الْأُسْبُوعُ مِنْ 6 أَيَّامٍ فَقَطْ. (.....)

## امتحان الفصل الثاني في التربية العلمية والتكنولوجية

التمرين الأول : أَرِبطُ بين كُلِّ عُضْوٍ وَخَاسَتِهِ



الرَّوْيَةُ

اللَّمْسُ









الشَّمُّ

السَّمْعُ

الذَّوْقُ

التمرين الثاني :

ألون القرص بالأزرق اذا كان الجسم سائلا أو ألونه بالأحمر اذا كان صلبا.



التمرين الثالث:

أرتب الوجبات الغذائية اليومية بوضع 1- 2- 3- 4 مكان النقط :

لُمَجَة

عَشَاء

فَطِيرُور

غَذَاء

( ... )

( ... )

( ... )

( ... )

امضاء الولي



**السند:** اجتمعت العائلة لتناول الغداء.

اتأمل المشهد:

1 - أ - ألون شيئاً صلباً بالأحمر.


صلبة

سائلة

ب - أشطب الخطأ: الماء مادة

2 - هذا بعض ما وضعت الأم على الطاولة.

- أصل كل غذاء بمصدره.

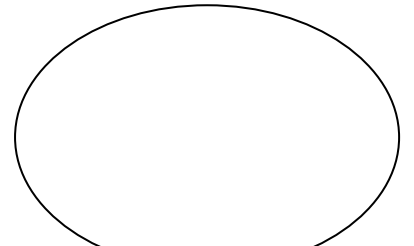


نباتي

معدني

حيواني

3 - كان أمام الطفل كوباً من الماء الجامد. أتأمل ثم أكمل المخطط:



4 - حان موعد المدرسة فركبت البنّت السيارة مع والدتها لأنها تقطع المسافة في ..... من المشي.

:

مدة زمنية  
أطول

مدة زمنية  
أقصر

السيارة مع أبيها ، شاهدت

ألون الجواب الصحيح

5 - لما كانت البنّت في صديققتها تجري.

أكمل العبارة بالكلمة المناسبة لكل فراغ: الحرارة - القلب - التنفس - تزداد - عند الجري - نبضات - و شدة - كما ترتفع درجة .....

6 - بدأ الأب يغني مع ابنته أغنية أيام الأسبوع.

أساعدهما في ترتيبها بوضع الأرقام من 1 إلى 7.

الثلاثاء

الأربعاء

الجمعة

الاثنين

السبت


الخميس

الأحد



## الاختبار الأول في التربية العلمية والتكنولوجية

التمرين الأول : ألون بالأحمر قرص الجسم الذي يطفو و بالأصفر قرص الجسم الذي لا يطفو



التمرين الثاني : أرَتَّبُ الوجبات الغذائية اليومية من 1 إلى 4:

لمجة

(....)

عشاء

(...)

فطور

(...)

غداء

(....)

التمرين الثالث : أضعُ العلامة x أمام كلِّ حَدَثٍ يَتَكَرَّرُ فِي اليَوْم :

..

➤ تناول الأكل

..

➤ عيدُ المِيلادِ .

..

➤ الدَّهَابُ إلى المَدْرَسَةِ .

..

➤ الاحتفالُ بِالمَوْلِدِ النَّبَوِيِّ الشَّرِيفِ .






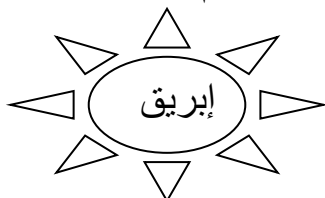
..

➤ التَّفَرُّجُ عَلَى التِّلْفَازِ .

..

➤ النوم

التمرين الرابع : ألون بطاقات الأجسام الصلبة التي تتحول إلى أجسام سائلة بفعل الحرارة



اختبار الفصل الثاني في مادة التربية العلمية والتكنولوجية

التمرين الأول: أضع (صلب) أو (سائل) تحت الكلمات التالية:

مكتب	عسل	مسطرة	حليب	طباشير	ماء
<input type="text"/>	<input type="text"/>	<input type="text"/>	<input type="text"/>	<input type="text"/>	<input type="text"/>

التمرين الثاني: أضع (يتكرر) أو (لا يتكرر) في المكان المناسب.

الختان	الميلاد	عيد الأضحى	الصلاة	النوم
.....	.....	.....	.....	.....

التمرين الثالث: ضع (ص) أو (خ).

☐ أتنفس باستمرار.

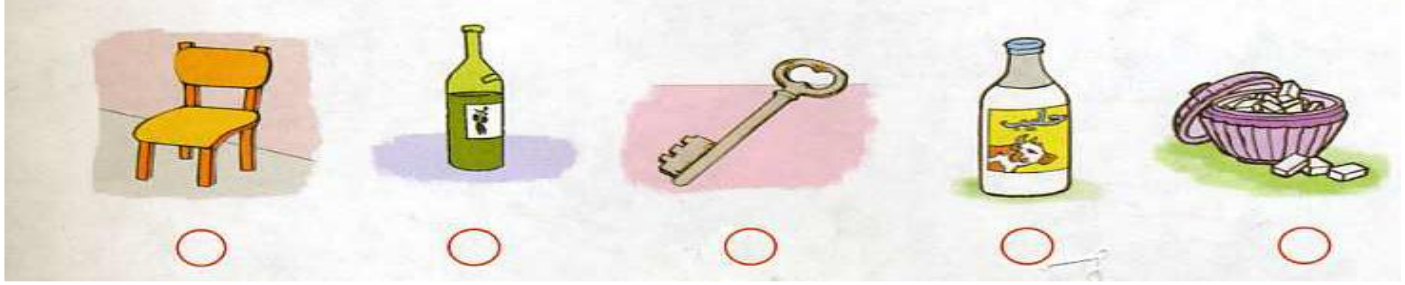
☐ أنام طول النهار.

☐ يذوب الماء بفعل الحرارة.

☐ بعد الأحد يوم الثلاثاء



**التمرين الأول :** اضع ( ص ) إذا كان الجسم صلبا و اضع ( س ) إذا كان الجسم سائلا



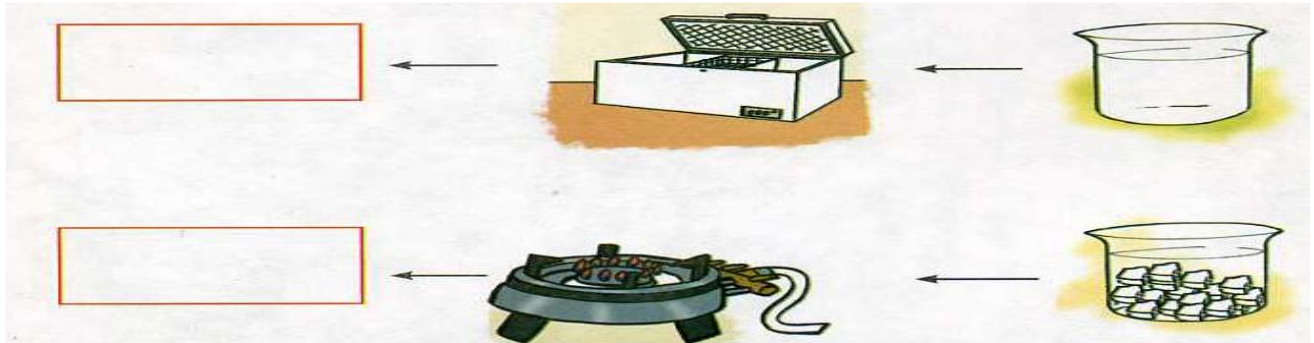
**التمرين الثاني :** أربط الصورة بالكلمة المناسبة



يفوص

يطفو

**التمرين الثالث:** اكتب الناتج ( جليد ) او ( ماء )



**التمرين الرابع :** اربط بما يناسب

\* شهر

نهار + ليل \*

\* يوم

\* 7 ايام

\* أسبوع

\* 30 يوما

**التمرين الرابع :** اضع علامة ( x ) تحت الأحداث التي تتكرر



بالتوفيق

