

السنة الدراسية: 2014/2015

الإسم و اللقب :

اختبار الفصل الثاني في
التاريخ

مدرسة الإخوة فروخي سيدي المجد
السنة الرابعة ابتدائي

التمرين الأول: (2 ن)

. رَتِّبِ العُصُورَ التَّارِيخِيَّةَ:

العَصْرُ الوَسِيطُ - العَصْرُ الحَدِيثُ - العَصْرُ القَدِيمُ - العَصْرُ المُعَاصِرُ.

- 1-
2-
3-
3-

التمرين الثاني: (4 ن)

- رَتِّبِ الأَحْدَاثَ التَّالِيَةَ تَرْتِيبًا زَمَنِيًّا:

إِبْتِكَارُ الْكِتَابَةِ - هِجْرَةُ الرَّسُولِ (صَلَّى اللَّهُ عَلَيْهِ وَسَلَّمَ) - عِمَارَةُ آدَمَ عَلَيْهِ السَّلَامُ لِلْأَرْضِ - مَوْلِدُ عِيسَى عَلَيْهِ السَّلَامُ.

- أ -
ب -
ج -
د -

التمرين الثالث (4ن) : ضَعِ صَحِيحَ أَوْ خَاطِئَ

1-3200 ق م هُوَ تَارِيخُ إِبْتِكَارِ الْإِنْسَانِ لِلْكِتَابَةِ. ☐

2- سَكَنَ إِنْسَانُ الْعَصْرِ الْحَجَرِيِّ الْكُهُوفَ. ☐

3- كَانَ إِنْسَانُ الْعَصْرِ الْحَجَرِيِّ يَتَنَقَّلُ بِالطَّائِرَةِ. ☐

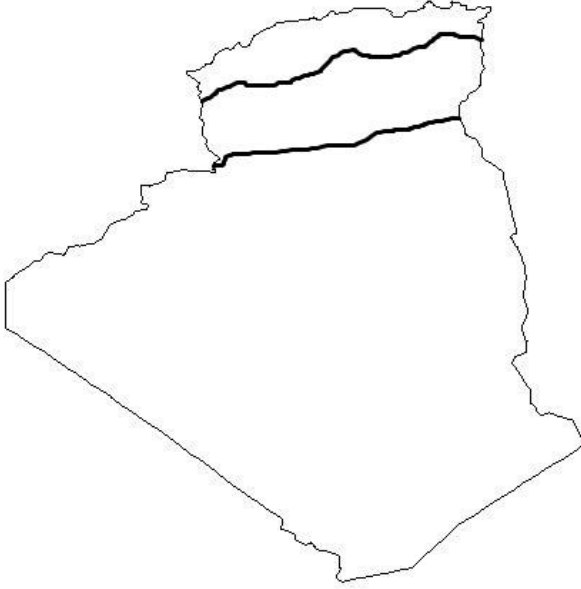
4- الأَدَوَاتُ الْحَجَرِيَّةُ مِنْ مَصَادِرِ الْمَعْلُومَةِ التَّارِيخِيَّةِ. ☐

العام الدراسي: 2015/2014
الإسم و اللقب:

اختبار الفصل الثاني في
الجغرافيا

مدرسة الإخوة فروخي سيدي
المُحَمَّد
السنة الرابعة ابتدائي

التمرين الأول: لَوْنُ الأَقَالِيمِ المُنَاخِيَّة:



- المَنَاخ القَارِي . (البنّي)
- المَنَاخ الصَّحْرَاوِي . (الأصفر)
- مَنَاخ البَحْر المَتَوَسِّط . (الأزرق)

التمرين الثاني : (3 ن)

اربط بسهم بين المناخ ومميزاتها

- مَنَاخ البَحْر الأبيض المتوسط
- حَارٌّ وَجَافٌ ، الأمطارُ نَادِرَةٌ وَ مُتَدَبِّدَةٌ.
- المناخ القاري
- يَتَمَيَّزُ بِشِتَاءٍ مُعْتَدِلٍ وَ مُمْطِرٍ وَبِصَيْفٍ حَارٍّ وَجَافٍ.
- المناخ الصحراوي
- يَتَمَيَّزُ بِشِتَاءٍ بَارِدٍ وَقَلَّةِ أَمْطَارٍ وَ بِصَيْفٍ حَارٍّ وَجَافٍ.

التمرين الثالث :

عَرِّف الطَّقْسَ وَ المَنَاخَ (4 ن)
الطَّقْسُ: هُوَ

المَنَاخُ: هُوَ

التاريخ :

1 - عرف العصور التاريخية واذكرها .(2ن)

.....

.....

2 ضع العبارة المناسبة.(1.5ن)

• في فترة الفتوحات الاسلامية كان موقف النوميدين متغيرا بين ذلك

- اولاً:

- أخيراً:

الهضبة الادمحية (2.5ن)

درست المراحل التي مرت بها الجزائر منذ العصر الحجري الى العصر الوسيط .
اكتب فقرة من اربع اسطر تلخص فيها ما تعلمته عن هذه الفترات مستعملا هذه الكلمات
- حياة التنقل - مملكتان - الاستعمار - الفتوحات الاسلامية .

(اقلب الصفحة واكتب الوضعية)







الجغرافيا :

1 عرف ما يلي .(2ن)

- الطقس :

- المناخ :

2 املا الجدول.(1ن)

الرمز	المدلول





3 اربط كل فصل بتاريخه.(1ن)

- 21 مارس - 21 جوان .

- 21 جوان - 23 سبتمبر .

- 23 سبتمبر - 22 ديسمبر .

- 22 ديسمبر - 21 مارس .

- فصل الصيف

- فصل الخريف

- فصل الشتاء

- فصل الربيع

التاريخ :

1- اربط بين كل دولة و مؤسسها :

- | | |
|-------------------|----------------------|
| - الدولة الرستمية | - يغمراسن بن زيّان |
| - الدولة الفاطمية | - محمد بن تومرت |
| - الدولة الحمادية | - حماد بن بلكين |
| - الدولة الموحدية | - عبيد الله المهدي |
| - الدولة الزيانية | - عبد الرحمن بن رستم |

2- ضع صحيح او خطأ أمام الجمل الآتية :

- استطاعت دولة الموحدين بتوحيد دول المغرب و الاندلس
- الدولة الفاطمية وحدت دول المغرب و المشرق الاسلامي
- استنجدت الدولة الزيانية بالأخوة بربروس
- تحول اسم منطقة من المغرب الاوسط إلى الجزائر.

الجغرافيا :

1-أكمل الفراغ :

- تدور الأرض حول الشمس مدة
- يومي الإعتدالين هما : الإعتدال و يوافق
- الإعتدال و يوافق

2-ما هي المواد الأولية ؟

اذكر بعض الأمثلة ؟

ضع كل مادة في الخانة المناسبة : الحديد ,البترول , الغاز , الفحم , الذهب , النحاس

المواد المعدنية	المواد الطاقوية

التاريخ : (5 نقاط)

1- رتب هذه العصور على الشريط الموجه .

- فجر التاريخ - العصر المعاصر - العصر القديم - العصر الحجري القديم
- العصر الوسيط - العصر الحجري الحديث - العصر الحديث

.....
.....



2- اذكر ثلاث مميزات لفجر التاريخ .

3- في أي عصر ظهر الدين الاسلامي ؟
- حدد سنة بداية هذا العصر و سنة نهايته . (من إلى)

الجغرافيا : (5 نقاط)

1- اربط بسهم بين كل فصل و فترته .

- فصل الخريف - فصل الشتاء - فصل الربيع - فصل الصيف
- يمتد من 21 جوان إلى 23 سبتمبر
- يمتد من 22 ديسمبر إلى 21 مارس
- يمتد من 23 سبتمبر إلى 22 ديسمبر
- يمتد من 21 مارس إلى 21 جوان

2- عرف الطّقس .

3- فيم تستغل مياه السدود ؟

إختبار في مادتي التاريخ و الجغرافيا.

١ تاريخ :

الوضعية الأولى : أربط بين الاستعمار القديم والمدة التاريخية التي مكثها في الجزائر :

الرومان	439 م إلى 534 م
الوندال	146 ق.م إلى 439 م
البيزنطيون	534 م إلى 647 م

الوضعية الثانية : أجب بمصحيح أو خطأ :

- * كانت التجارة التوميدية نشطة جدًا. ☐
- * سيفاقس من أبرز ملوك ماسيليا. ☐
- * كانت المملكة التوميدية المعروفة الرئيسة بالقمع لدول حوض البحر المتوسط ☐
- * يوعرطة ملك توميدي قاد المقاومة ضد الاستعمار. ☐

٢ جغرافيا :

الوضعية الأولى : أكتب السبب المناسب لكل نتيجة مما يلي :

- * تعاقب الليل والنهار. ←
- * اختلاف بعض الأودية في الجزائر. ←
- * قلة الإنتاج الزراعي. ←
- الوضعية الثانية : أمل كل فصل من فصول السنة بعدية :
- فصل الصيف
- فصل الخريف
- فصل الشتاء
- فصل الربيع
- يحتد من 22 ديسمبر إلى 1 مارس
- يحتد من 1 جوان إلى 23 سبتمبر
- يحتد من 1 مارس إلى 1 جوان
- يحتد من 23 سبتمبر إلى 22 ديسمبر

□ اختبار الفصل الثاني في نشاطي التاريخ و الجغرافيا □~ نشاط التاريخ ~السند :

كانت مملكة نوميديا مملكةً عظيمةً حيثُ عمل أبناءُ الشعب النوميدي على تطويرها من جانب الحياة السياسية, فكان لها نظاما ملكيا وراثيا يُسير شؤون البلاد مع مجلس للشيوخ , وكما أنهم نشطوا في الجانب الاقتصادي و الثقافي أيضا بشكلٍ لفت أطماع الدول الأجنبية لاستعمارها ولكن أبناءها لم يستسلموا للوجود الاستعماري و قاوموه بشراسة .

* من خلال ما قرأت في السند و ما درسته أجب على ما يلي :

- 1- أذكر بعض الصناعات والسلع التي اشتهرت المملكة النوميديّة بها وكذا بعض المباني التي شيدها.
- 2- أذكر الإستعمارات التي تعاقبت على مملكة نوميديا و بين كيف كانت أهدافهم.
- 3- من هم أهم المقاومين للاستعمار الأجنبي في مملكة نوميديا .

~ نشاط الجغرافيا ~السند :

تمتدُّ في شمال الجزائر سلسلتان جبليتان و هما سلسلة الأطلس التلي و سلسلة الأطلس الصحراوي , و كذا تنقسم الأودية في الجزائر إلى نوعان , منها ما هو دائم الجريان في الشمال و منها ما يختفي بسبب ارتفاع درجة الحرارة و قلة الأمطار و ذلك بسبب المناخ السائد لتلك المناطق على مدار السنة .

* من خلال ما هو موضح في السند و ما درسته أجب على ما يلي :

- 1- أذكر بعض الأودية في الجزائر .
- 2- أذكر أنواع المناخات السائدة في الجزائر
- 3- سمّي أيام الانقلاب و الاعتدال و متى تحدث .

بالتوفيق .~

التمرين الأول: اكتب مؤسس كل دولة في الخانة المناسبة من الجدول المرفق
عبيد الله المهدي – يغمراسن بن زيان – محمد بن تومرت وعبد المؤمن بن علي – حماد بن بلكين – عبد الرحمن بن رستم

الدولة الزيانية	الدولة الحمادية	الدولة الموحدية	الدولة الرستمية
.....
.....

التمرين الثاني:

ما هي أبرز الصعوبات التي واجهت الفتح الإسلامي في الجزائر؟ { اذكر ثلاثة منها }

.....
.....
.....

الجغرافيا : 5/5

أكمل ما يلي :

- 1- البوصلة هي :
- 2- ظاهرة النزوح الريفي تعني
.....
- 3- من الفروق الموجودة بين الريف و المدينة، اذكر فرقا واحدا:.....
.....
- 4- ما المقصود بالاعتدالين الربيعي والخريفي؟.....
.....
- 5- ما الذي ينتج عن دوران الأرض حول الشمس؟.....
.....

بالتوفيق

العام الدراسي: 2016/2017

مدرسة الصومام الجديدة المقاطعة 01 بوزريعة

اختبار الفصل الثاني، في مادة المحفوظات

السنة الرابعة: أ

المدة: 45 دقيقة

(امتحان الفصل الثاني في مادة التاريخ)

فيفري 2017

السنة الرابعة

السؤال الأول: (3.5 ن) رتب جميع العصور حسب السلم الزمني التالي:

.....
.....

السؤال الثاني: (3 ن) أربط بسهم العبارة وما يناسبها:

- فجر التاريخ
- الثمار والصيد
- الكهوف والمغارات
- جلود الحيوانات
- العصر الحجري الحديث
- الحجارة

- سكن إنسان الحجري القديم في
- ثم أنشأ الأكواخ من
- ابتكر الكتابة في
- اعتمد الإنسان الأول في غذائه على
- كانت وسيلته الأولى في العمل هي
- مارس الإنسان الأول الزراعة في

السؤال الثالث: (3.5 ن)

1- في أي عصر ظهر الدين الإسلامي؟

.....

2- هناك نوعان من المصادر التاريخية

1- مثال:

2- مثال:

بالتوفيق

اختبار الفصل الثاني في الاجتماعيات

التاريخ

السؤال 1- أربط بسهم بين الدولة وقائدها و عاصمتها : **03 نقاط**

- | | | |
|-------------------|-----------------------|------------|
| - الدولة الحمادية | - عبد الرحمان بن رستم | - المهديّة |
| - الدولة الفاطمية | - حماد بن بلكين | - تيهرت |
| - الدولة الرستمية | - عبد الله المهدي | - بجاية |

السؤال 2: بم تسمى الدول التالية حديثا

- | | |
|----------|---------------|
| 01 | المغرب الأوسط |
| 01 | المغرب الأدنى |
| 01 | المغرب الأقصى |

السؤال الثالث : أكمل ما يلي بالعبارات المناسبة **04 نقاط**

الدولة الحمادية تأسست سنة **398هـ / 1007م** على يد **حماد بن بلكين**
نظام الحكم فيها **وراثي** يلقب الحاكم بالامير

الجغرافيا

السؤال الاول: عرف ما يلي با تمام العبارات بما يناسب **06 نقاط**

• الطقس = حالة الجو لمدة قصيرة

- المناخ = حالة الطقس متكررة لعدة سنوات
- من اجل تطوير الزراعة يجب الحد من النزوح الريفي
- النزوح الريفي هو الهجرة من الريف إلى المدينة
- يعتمد سكان الريف في نشاطهم على الزراعة و تربية الاغنام
- المدينة المليونية لا يقل سكانها عن مليون نسمة

السؤال الثاني : أضع ((ص)) أو ((خ)) **0.5 على كل اجابة**

— الهضبة ارض مستوية السهل وهي اكثر ارتفاعا من السهل

— الوادي ارض مرتفعة محصورة بين مرتفعين

— يقاس ارتفاع التضاريس انطلاقا من مستوى سطح البحر

— تقع السهول الساحلية في الصحراء

— العرق مغطى بالحصى

— نهر النيل طوله 6700 كلم هو اطول مجرى مائي في العالم

اختبار شهر مارس في مادة التاريخ

السؤال الأول : (1.5 نقطة)

ضع (ص) أو (خ) أمام كل عبارة ؟

- مؤسس الدولة الرستمية هو عبيد الله بن رستم (.....)
- مؤسس الدولة الحمادية هو حماد بن بلكين بن زيري الصنهاجي (.....)
- مؤسس الدولة الفاطمية هو عبد الرحمان المهدي (.....)

السؤال الثاني : (4 نقاط)

ضع كل كلمة في مكانها المناسب ؟

المسلمين - الأمر - الفتوحات - الإسلام - البزنطي - الاستعمار - الإفريقية - الأندلس

قاوم الأمازيغ الإسلامية في بادئ اعتقادا منهم أن أهداف لا
تختلف عن أهداف الروماني و الوندالي و لكنهم سرعان ما تفهموا رسالة
..... فاعتنقوه وتحملوا مهمة نشره عبر والصحراء

السؤال الثالث : (1.5 نقطة)

اربط بسهم بين الدولة وتاريخ تأسيسها ؟

- الدولة الرستمية . سنة (398 هـ) الموافق لـ (1007 م)
- الدولة الفاطمية . سنة (160 هـ) الموافق لـ (776 م)
- الدولة الحمادية . سنة (296 هـ) الموافق لـ (909 م)

السؤال الرابع : (3 نقاط)

ما هي العاصمة الأولى لكل دولة من الدول التالية ؟

- الدولة الرستمية هي ثم سدراته (ورقلة) .
- الدولة الفاطمية هي ثم القاهرة بمصر .
- الدولة الحمادية هي ثم الناصرية .

اختبار شهر مارس في مادة الجغرافيا

التمرين الأول : (4 نقاط)

اربط بسهم الفصل ومدته .

- | | |
|--------------|------------------------------|
| فصل الصيف . | . من 23 سبتمبر إلى 23 ديسمبر |
| فصل الخريف . | . من 21 جوان إلى 23 سبتمبر |
| فصل الشتاء . | . من 21 مارس إلى 21 جوان |
| فصل الربيع . | . من 22 ديسمبر إلى 21 مارس |

التمرين الثاني : (3 نقاط)

ضع كل كلمة في مكانها المناسب : البحيرات - المرتفعات - المحيط .

- المجاري المائية تنبع من في والبحر أو والشطوط
وبعضها يفور .

التمرين الثالث : (3 نقاط)

أكمل مكان النقط ؟

- البوصلة

❖ السؤال الأول: أكمل بما يلي (. الأندلس . أهداف . الروماني . الأمازيغ . الإسلام)

- قَاوَمَ الفُتُوحَاتِ الإِسْلَامِيَّةِ فِي بَادِي الأَمْرِ اعْتِقَادًا مِنْهُمْ أَنَّ المُسْلِمِينَ لَا تَخْتَلِفُ
عَنْ أَهْدَافِ الإِسْتِعْمَارِ وَ البِيزَنْطِيَّ لَكِنَّهُمْ سُرْعَانَ مَا تَفَهَّمُوا رِسَالَةَ فَأَعْتَنَقُوهُ وَ تَحَمَّلُوا
مُهِمَّةَ نَشْرِهِ فِي وَ الصَّحْرَاءِ الإِفْرِيقِيَّةِ .

❖ السؤال الثاني: أكمل بما يناسب

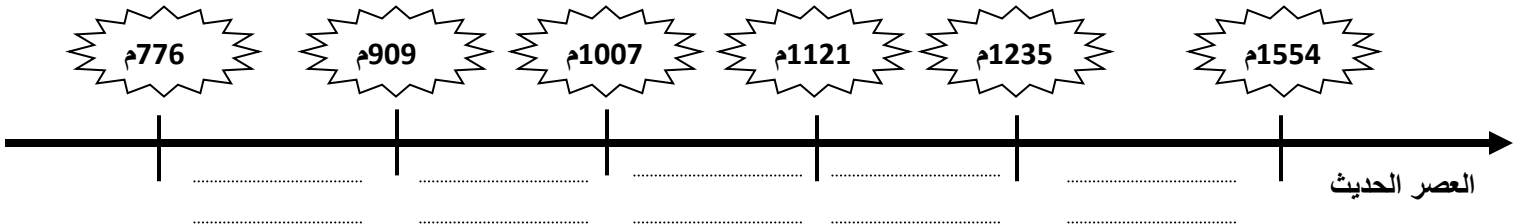
- فِي العَصْرِ الوَسِيطِ كَانَتْ الجَزَائِرُ تُسَمَّى :
- أَوَّلُ مَنْ قَادَ الفُتُوحَاتِ الإِسْلَامِيَّةَ فِي الجَزَائِرِ هُوَ :
- القَائِدُ المُسْلِمُ الأَمَازِغِي الَّذِي فَتَحَ الأَنْدَلُسَ هُوَ :

❖ السؤال الثالث: أَكْتُبْ مُؤَيَّدَ كُلِّ دَوْلَةٍ فِي الخَانَةِ المُنَاسِبَةِ مِنَ الجَدُولِ المُرَافِقِ

عبيد الله المهدي - يغمراسن بن زيان - محمد بن تومرت وعبد المؤمن بن علي - حماد بن بلكين - عبد الرحمن بن رستم

الدولة الزيانية	الدولة الحمادية	الدولة الفاطمية	الدولة الموحدية	الدولة الرستمية
.....
.....

❖ السؤال الرابع: أرتب الدول التي حكمت الجزائر في العصر الوسيط على السلم الزمني المرافق



اختبار الفصل الثاني في مادة الجغرافيا

➤ السؤال الأول: أصنف المواد التالية في الجدول المرافق:

((- الفَحْمُ الحَجري - زيت الزيتون - السيارات - البُرْتقال - الزُّنك - أشجار الفَليْن))

مواد أولية صناعية و طاقوية	مواد أولية زراعية	مواد صناعية و زراعية محولة
.....
.....

➤ السؤال الثاني: أربط كل مادة مصنعة بمادتها الأولية

المنفط	■ الدَّرَاجَة
الحلفاء	■ بابُ القِسم
الحديد	■ البِنزِين
النحاس	■ الورَق
الخشب	■ أسلاكُ الهَاتِف

➤ السؤال الثالث: أكمل بما يناسب

- الزَّراعة التقليديّة: هي الزَّراعة التي تَعْتَمِدُ على وسائلٍ مثل: ، و
و تَسْتَخْدِمُ يَدًا عامِلَةً لِكِنِ إنتاجها
- الزَّراعة الحديثة: هي الزَّراعة التي تَعْتَمِدُ خاصَّةً على الآلاتِ و الطُّرُقِ مثل: ،
و ، و مِمَّا يَسْمَحُ بزيادةٍ

اختبار الفصل الثاني في مادة التاريخ و الجغرافيا

الجغرافيا (5ن)

أجب عما يلي:

- 1- من مظاهر السطح:
- 2- في الجزائر ثلاث مناخات هي: - مناخ
- - المناخ - المناخ
- 3- الطقس هو
- أما المناخ فهو
- 4- العناصر المؤثرة في المناخ هي:
- 5- أطول يوم في السنة هو: أما أقصر يوم فهو:

التاريخ (5ن)

1- قسم علماء التاريخ العصور التاريخية إلى أربعة عصور هي:

- أ- العصر
ب- العصر
ج- العصر
د- العصر

2- رتب الأحداث التالية ترتيبا زمنيا:

ابتكار الكتابة - هجرة الرسول (ص) - عمارة آدم عليه السلام للأرض - مولد عيسى عليه السلام.

--	--	--	--

3- أكتب فقرة تتحدث فيها عن حياة إنسان العصور الحجرية مجيبا فيها على الأسئلة التالية:

- أين كان يعيش؟

- ماذا كان يأكل؟

- ماذا كان يلبس؟

- ما هو الشيء المهم الذي اكتشفه؟

.....

.....

.....

.....

(اختبار الفصل الثاني لتلاميذ السنة الرابعة)

المدة 45 دقيقة

مارس 2014

في نشاط التاريخ

التمرين الأول: (03)رتب عصور (ماقبل التاريخ) :

فجر التاريخ – العصر الحجري القديم – العصر الحجري الحديث

التمرين الثاني: (03)

كيف كان نظام الحكم في الدولة النوميديّة ؟

- 1 – جمهوري .
- 2 – دكتاتوري .
- 3 – ملكي .

التمرين الثالث: (03)أربط بسهم بين الاستعمار ومدته التاريخية :

الوندال	من 146 ق م إلى 439 م.
الرومان	من 439 م إلى 534 م .
البنزطيون	من 534 م إلى 647 م .

التمرين الرابع: (02)

سمي الإنسان القديم بالحجري لأنه :

الإجابة النموذجية

التمرين الأول: (03)

رتب عصور (ماقبل التاريخ) :

فجر التاريخ – العصر الحجري القديم – العصر الحجري الحديث

1 - العصر الحجري القديم 2- العصر الحجري الحديث 3- فجر التاريخ

التمرين الثاني: (03)

كيف كان نظام الحكم في الدولة النوميديّة ؟

1 – جمهوري .

2 – دكتاتوري .

3 – ملكي .

كان نظام الحكم في الدولة النوميديّة ملكيا .

التمرين الثالث: (03)

أربط بسهم بين الاستعمار ومدته التاريخية :

الوندال ← من 146 ق م إلى 439 م .
الرومان ← من 439 م إلى 534 م .
البنزطيون ← من 534 م إلى 647 م .

التمرين الرابع: (02)

سمي الإنسان القديم بالحجري لأنه :

استعمل الحجارة في مصنوعاته

(اختبار الفصل الثاني لتلاميذ السنة الرابعة)

المدة 45 دقيقة

مارس 2014

في نشاط الجغرافيا

التمرين الأول : (02)

اختر الجواب الصحيح : الفرق بين الوادي والنهر :

طول المجرى - انحدار المجرى - ديمومة الجريان

.....

التمرين الثاني : (03)

اربط بسهم بين المناخ ومميزاته :

- مناخ البحر الأبيض المتوسط
- حار وجاف ، الأمطار نادرة و متذبذبة
- مناخ قاري
- يتميز بشتاء معتدل وممطر وبصيف حار وجاف
- المناخ الصحراوي
- يتميز بشتاء بارد وقلة أمطار و بصيف حار وجاف .

التمرين الثالث : (05)

ضع صحيح او خطأ امام كل عبارة :

- ينتج عن دوران الأرض حول الشمس الكسوف . ☐
- ينتج عن دوران الأرض حول نفسها تعاقب الليل والنهار . ☐
- يوم 21 جوان هو اقصر نهار في السنة . ☐
- يوم 21 مارس هو يوم الاعتدال الربيعي . ☐
- عدد ساعات اليوم في فصل الصيف 25 ساعة . ☐

الإجابة النموذجية

التمرين الأول : (02)

اختر الجواب الصحيح : الفرق بين الوادي والنهر :

طول المجرى - انحدار المجرى - ديمومة الجريان

ديمومة الجريان

التمرين الثاني : (03)

اربط بسهم بين المناخ ومميزاته :

- | | |
|-----------------------------|---|
| • مناخ البحر الأبيض المتوسط | • حار وجاف ، الأمطار نادرة و متذبذبة |
| • مناخ قاري | • يتميز بشتاء معتدل وممطر وبصيف حار وجاف |
| • المناخ الصحراوي | • يتميز بشتاء بارد وقلة أمطار و بصيف حار وجاف . |

التمرين الثالث : (05)

ضع صحيح او خطأ امام كل عبارة :

خطأ

➤ ينتج عن دوران الأرض حول الشمس الكسوف .

صحيح

➤ ينتج عن دوران الأرض حول نفسها تعاقب الليل والنهار .

خطأ

➤ يوم 21 جوان هو اقصر نهار في السنة .

صحيح

➤ يوم 21 مارس هو يوم الاعتدال الربيعي .

خطأ

➤ عدد ساعات اليوم في فصل الصيف 25 ساعة .

السنة الرابعة ابتدائي

2014 / 2013

مدرسة شرفة لخميسي

مسكيانة

اختبار الفصل الثاني

في مادة التاريخ

1 (ما هي الدول التي استعمرت الجزائر قديما ؟ (2.5)

2 (لماذا قاوم الامازيغ الفتوحات الإسلامية ؟ (2.5)

3 (أكمل ما يلي : (5)

_ في العصر الوسيط كانت الجزائر تسمى

_ في العصر الوسيط كانت تونس تسمى

_ أول من قاد الفتوحات الإسلامية في الجزائر هو

_ القائد الذي فتح الأندلس هو

_ قاوم الامازيغ الفتوحات الإسلامية بقيادة ثم

السنة الرابعة ابتدائي

2014 / 2013

مدرسة شرفة لخميسي

بمسكيانة

اختبار الفصل الثاني

في مادة الجغرافيا

(1) اذكر بعض المواد التي تصدرها الجزائر إلى الدول الأوربية . (2)

(2) ما هي المادة الأولية التي صنعت منها كل من : الدراجة _ الخبز _ زيت المحرك (3)

(3) أكمل ما يلي : (5)

_ تحتاج صناعة الورق إلى مادة أولية هي

_ تنقل مواد الطاقة عبر.....أو.....

_ تستورد الجزائر مواد كثيرة منها :و.....

_ الزراعة التقليدية تعتمد علىوالزراعة الحديثة تعتمد على.....